

தேசிய சேமிப்பு வங்கியின் அன்பளிப்பாகும்.



## முற்பயிற்சி வினாத்தாள் - 02

பாடசாலைக்கு மாணவர்களைத் தெரிவு செய்வதற்கும் மாணவர் உதவி வழங்குவதற்குமாக ஐந்தாந் தர மாணவர்களுக்காக நடாத்தப்படும் பரீட்சை - 2022

EXAMINATION GRADE FIVE STUDENTS FOR SELECTION TO SCHOOL AND FOR THE AWARD OF BURSARIES - 2022

பத்திரம் II

01 மணி 15 நிமிடம்

சுட்டிலக்கம்: .....

பரீட்சைக்குத் தோற்றும் உங்களுக்குரிய அறிவுறுத்தல்கள்:

- உங்களது சுட்டிலக்கத்தை மேலே தரப்பட்டுள்ள கட்டத்தினுள் புள்ளிக்கோட்டின்மீது எழுதுக.
- மூன்றாம் பக்கத்தில் தரப்பட்டுள்ள குறித்த இடத்திலும் உங்கள் சுட்டிலக்கத்தை எழுதுக.
- இவ்வினாப்பத்திரத்தில் 40 வினாக்கள் உள்ளன. எல்லா வினாக்களுக்கும் இவ்வினாத்தாளிலேயே விடையளிக்குக. (சில வினாக்களில் உப பகுதிகளும் உள்ளன.)
- நான்கு விடைகள் தரப்பட்டுள்ள வினாக்களில் சரியான விடையைத் தெரிவுசெய்து கீழ்க் கோடிடு
- விடை எழுதுவதற்குரிய வினாக்களின் விடைகளைப் புள்ளிக்கோட்டின் மீது எழுதுக.
- விடையின் கீழ்க் கோடிடுக எனக் கூறப்பட்டுள்ளதாயின், கோடு மாத்திரம் வரைக.
- செய்து பார்த்தலுக்காக ஒரு கடதாசித்தாள் தரப்படும்.

விடைத்தாள் பரீட்சகர்களுக்கு மாத்திரம்.

பக்க எண்	பெற்ற புள்ளி
02	
03	
04	
05	
06	
07	
08	
மொத்தம்	
இறுதிப்புள்ளி	
இலக்கத்தில்	
எழுத்தில்	

	சுருக்க ஒப்பமும் குறியீட்டிலக்கமும்
முதலாம் பரீட்சகர் புள்ளிவழங்கும் திட்டத்தின் படி விடைத்தாள் மதிப்பீடு செய்தமையை உறுதிப்படுத்துகிறேன்.	V/II/S
இரண்டாம் பரீட்சகர் முதலாம் பரீட்சகர் செய்துள்ள மதிப்பீடு சரியானது என உறுதிப்படுத்துகிறேன்.	V/II/S
மதிப்பீட்டுப் புள்ளிகளை உறுதிப்படுத்தும் பரீட்சகர் மதிப்பீடு செய்து, வழங்கியுள்ள புள்ளிகளும் இறுதிப்புள்ளியும் சரியானவை என உறுதிப்படுத்துகிறேன்.	V/II/S/EMF
பிரதம பரீட்சகர் மேற்பார்வை செய்தேன். இறுதிப்புள்ளி சரியானது.	
	V/II/S/CH

தயாரிப்பு: சட்டத்தரணி கிரேசன் குலரத்ன - ஓய்வுபெற்ற பணிப்பாளர், முன்பிள்ளைப்பருவ விருத்தி மற்றும் ஆரம்பக்கல்வித் திணைக்களம், தேசிய கல்வி நிறுவகம் - தொ.இல: 071-4500044

01. பின்வரும் பந்தியை வாசியுங்கள்.

ஒரு நாட்டின் பெருமை அங்குள்ளவர்களின் கல்வியில் தங்கியுள்ளது. அத்தகைய பெருமையை ஈட்டிக் கொடுப்பதற்குக் காரணமாக அமையும் நூல்களை நாம் கண்கள் போன்று பேணிப் பாதுகாப்பது எமது கடமையாகும். எனவே நூல் நிலையங்கள், பாடசாலைகள் முதலியவற்றில் காணப்படும் நூல்களைக் கிழிக்காமலும் சிதைக்காமலும் பக்குவமாகப் பயன்படுத்துங்கள்.

■ பந்தியைத் துணையாகக் கொண்டு விடை தருக.

- (i). ஒரு நாட்டின் பெருமை அந்நாட்டு மக்களின் எதில் தங்கியுள்ளது? .....
- (ii) 'சிறுமை' என்ற சொல்லின் எதிர்க்கருத்துச் சொல்லை எழுதுக. ....
- (iii) 'நூல்கள்' என்பதன் ஒத்த கருத்துச் சொல்லை எழுதுக. ....
- (iv) இங்கு இடம்பெறும் உவமானத்தை எழுதுக. ....
- (v) 'கவனமாக' என்ற கருத்துத் தரும் செல்லை எழுதுக. ....
- (vi) தன்மைப் பன்மை எதிர்கால வினைச் சொல்லை எழுதுக. ....

02. கீழே தரப்பட்டுள்ளவற்றிற்கு அடைப்புக்குள் இருந்து பொருத்தமான சொல்லைத் தெரிவு செய்க.

- (i) நாங்கள் தினமும் சத்துள்ள உணவையே .....  
(சாப்பிடுவோம், சாப்பிடுவார்கள்)
- (ii) நேற்று குமார் பால் ..... (குடித்தான், குடிப்பான்)
- (iii) ..... (அவர், அவர்கள்) சுற்றுலாவிற்குச் சென்றார்கள்.

03. பின்வரும் இணைமொழிகளைப் பூர்த்தி செய்க.

- (i) குன்றும் ..... (ii) அருமை .....


04. (i) பின்வரும் சந்தர்ப்பத்திற்குப் பொருத்தமான பழமொழியைப் புள்ளிக்கோட்டில் எழுதுக.  
ஒன்றின் இயல்பை அறியுமுன் அதனைச் செய்யத் தொடங்காதே.  
.....

05. பின்வரும் வாக்கியங்களில் பொருத்தமான இடங்களில் நிறுத்தக் குறிகளை இடுக.

- (i) மகாவலி களனி வளவை கரு ஆகியன இலங்கையிலுள்ள பிரதான நதிகளாகும்  
.....
- (ii) புத்தகம் தொலைந்து விட்டதா என அம்மா கேட்டார்  
.....

06. பின்வரும் ஒவ்வொரு மரபுத் தொடரும் வெளிப்படுத்தும் கருத்தைக் கட்டத்திற்குள் இருந்து தெரிவு செய்து கீறிட்ட இடங்களில் எழுதுக.

- (i) வாயுறுதல் .....
- (ii) நாக்குப் புரளுதல் .....



07. சரியான எழுத்தைத் தெரிந்தெடுத்து இடைவெளி நிரப்புக.  
(i) ஆப.....ணம் (று/ர) (ii) திரும.....ம் (ன/ண)
08. பின்வரும் வாக்கியத்தைப் பன்மை வாக்கியமாக மாற்றி எழுதுக.  
பச்சை நிறப் புல் அழகாக வளர்ந்திருந்தது.  
.....
09. பின்வரும் சொற்களை ஒழுங்குபடுத்தி கருத்துள்ள வாக்கியம் அமைக்குக.  
தேவையான /கற்றுக்/விடயங்களை/பரீட்சைக்குத் /தேடிக்/கொண்டேன்/ஒவ்வொன்றாக  
.....
10. பின்வரும் தொடர் மொழிக்கு ஒரு மொழியைக் கீறிட்ட இடத்தில் எழுதுக.  
(i) தன்னைப் பற்றித் தானே எழுதும் சரிதை .....  
(ii) ஒரு தாய் வயிற்றில் பிறந்தோர் .....
11. பின்வரும் ஆங்கிலச் சொற்களுக்குரிய தமிழ்ச் சொல்லை எழுதுக.  
(i) elephant ..... (ii) mango .....
12. படத்துக்குப் பொருத்தமான ஆங்கிலச் சொல்லை எழுத்துக்களில் எழுதுக.  
.....




13. கீழே தரப்பட்டுள்ள ஆங்கில வாக்கியங்களில் இடைவெளிக்குப் பொருத்தமான சொல்லை அடைப்புக்குள் உள்ள சொற்களிலிருந்து தெரிவு செய்து அதன் கீழ்க் கோட்டுக.  
(i) I ..... (am / is) reading a book.  
(ii) This.....(are / is) my table.
14. 'சிசுன்' எனும் சிங்களச் சொல்லின் பொருளை தமிழ் எழுத்துக்களில் எழுதுக.  
.....
15. இந்த வாக்கியத்தைச் சிங்களத்தில் சொல்லும் விதத்தை தமிழ் எழுத்துக்களில் எழுதுக.  
தேநீர் குடியுங்கள். ....
16. இருபத்தோராயிரத்துப் பத்து எனும் எண்ணிலிருந்து 1 ஐக் கழிப்பதால் கிடைக்கம் எண்ணை இலக்கத்தில் எழுதுக.  
.....

17. 

5	0
4	9

தரப்பட்டுள்ள நான்கு அட்டைகளிலும் உள்ள நான்கு இலக்கங்களையும் பயன்படுத்தி அமைக்கக்கூடிய மிகச் சிறிய எண்ணை எழுதுக.  
.....



18. பின்வரும் எண் பெயர்களை உரோம இலக்கத்தில் எழுதுக.

(i) எட்டு .....

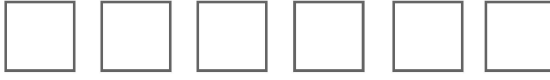
(ii) நான்கு .....

19. (i) கீழே தரப்பட்டுள்ள உருவில் 0.6 இனை நிறந்தீட்ட வேண்டியுள்ளது. அதற்காக மேலும் எத்தனை கட்டங்களுக்கு நிறந்தீட்ட வேண்டும்?



(ii) திவாகர், 36 பக்கங்கள் உள்ள ஒரு புத்தகத்தின்  $\frac{3}{4}$  ஐ வாசித்து முடித்துள்ளதாகக் கூறுகிறான். அவர் வாசித்துள்ள பக்கங்கள் எத்தனை? .....

20. இந்த எல்லாத் தளவடிவங்களையும் பயன்படுத்தி அமைக்கக்கூடிய திண்மப் பொருளின் பெயர் யாது?



21. இடைவெளிக்குப் பொருத்தமான எண்ணை எழுதுக.

(i) 13, 20, ....., 34, 41

(ii) ....., 54, 63, 72, 81

22. பின்வரும் விலைப்பட்டியலைக் கவனியுங்கள்.

பொருள்	அளவு	விலை	
		ரூ.	சதம்
பென்சில்	2	11	00
பேனை	1	20	00
புத்தகம்	1	40	00

அதற்கமைய, பின்வரும் சிட்டையின் இடைவெளிகளை நிரப்புக.

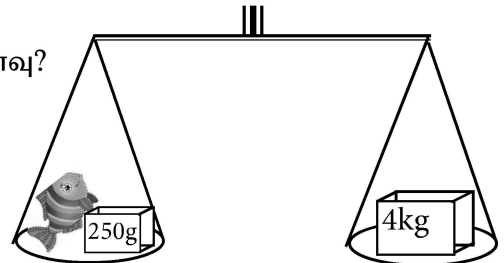
வாங்கிய பொருள்	அளவு	விலை	
		ரூபா	சதம்
பென்சில்	.....	16	50
பேனை	2	.....	.....
புத்தகம்	2	80	00
மொத்தம்		.....	.....

23. தேக்கரண்டி ஒன்று கொள்ளும் திரவ அளவு 5 அட ஆகும். வைத்தியர் ஒருவர், திரவ மருந்தொன்றை தடவைக்கு 2 தேக்கரண்டி வீதம் நாளொன்றுக்கு மூன்று தடவைகள் குடிக்குமாறு நோயாளிக்குக் கூறியுள்ளார். அதற்கமைய இந்த நோயாளி குடிக்க வேண்டிய திரவ மரந்தின் மொத்த அளவு எவ்வளவு?

.....

24. தராசில் உள்ள மீனின் சரியான நிறை எவ்வளவு?


.....



25. பாடசாலைகளுக்குப் பகிர்ந்தளிப்பதற்காக 722 பந்துகள் கிடைத்துள்ளன.

(i) ஒரு பாடசாலைக்கு 3 பந்துகள் வீதம் பகிர்ந்தளிக்கப்படுமாயின் எத்தனை பாடசாலைகளுக்கு பந்துகள் வழங்க முடியும்? .....

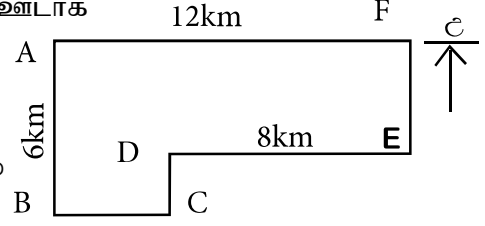
(ii) மீதியாக உள்ள பந்துகள் எத்தனை? .....



26. A, B, C, D, E, F ஆகிய நகரங்களின் அமைவிடங்கள் படத்தில் காட்டப்பட்டுள்ளது.

(i) F எனும் நகரத்தில் ஆரம்பித்து A நகரத்தின் ஊடாக C நகரத்துக்குச் செல்லும் ஒருவர் செல்ல வேண்டிய தூரம் எவ்வளவு? .....

(ii) A நகரத்திலிருந்து எந்தத் திசையில் F நகரம் உள்ளது? .....



27.

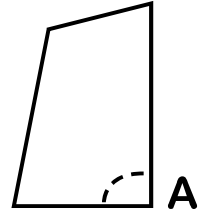


இந்தக் கடிகார முகப்பில் காட்டப்படும் நேரத்தை 12 மணி நேர கடிகார நேரமாக எழுதுக.

.....

28.

ஒரு வீட்டின் யன்னலொன்று படத்தில் காட்டப்பட்டுள்ளன. யன்னலின் A எனும் இடத்தில் உள்ள கோணத்தைப் பெயரிடுக.



.....

29.

வெவ்வேறு சிற்றுண்டி வகைகளை விரும்பும் சில மாணவர்கள் தொடர்பான தகவல்களைக் காட்டும் வரைபொன்றும் அட்டவணையொன்றும் கீழே தரப்பட்டுள்ளன.

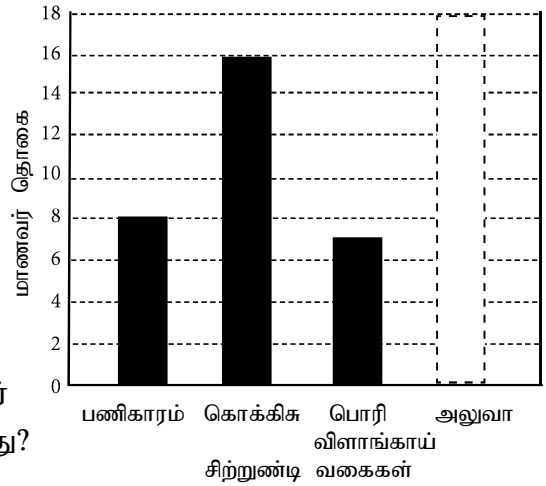
சிற்றுண்டி வகை	பணிகாரம்	கொக்கிசு	அலுவா	பொரி விளாங்காய்
மாணவர் தொகை	8	16	14	.....

(i) அலுவா எனும் சிற்றுண்டி வகையை உண்ண விரும்பும் மாணவர் எண்ணிக்கையை வரைபில் குறித்துக் காட்டுக.

(ii) பொரி விளாங்காய் எனும் சிற்றுண்டி வகையை உண்ண விரும்பும் மாணவர் எண்ணிக்கையை அட்டவணையில் எழுதுங்கள்.

(iii) மொத்த மாணவர்களுள்  $\frac{1}{3}$  பகுதியினர் உண்ண விரும்பும் சிற்றுண்டி வகை எது?

.....



■ இல. 30 தொடக்கம் 59 வரையிலான ஒவ்வொரு வினாவிலும் தரப்பட்டுள்ள விடைகளுள் சரியான விடையைத் தெரிவு செய்து அதன் கீழ்க் கோடிடுக.

30.


கொத்துக் கொத்தாகப் பூக்கும் மலர் வகை பின்வருவனவற்றுள் எது?



- (1) அலரி (2) சூரியகாந்தி (3) செவ்வரத்தை

31.

‘கண்களை மூடியவாறு மெல்ல மெல்ல கைகால்களைத் தளர்த்திக் கொள்ளுங்கள்.’ இந்த விளக்கத்தின் மூலம் கூறப்படும் செயற்பாடு யாது?

- (1) உடலைத் தளர்த்துதல் (2) மனதைத் தளர்த்துதல் (3) திடசித்தம்



32. இலங்கையின் தேசியப் பறவை எது?  
(1) காட்டுக்கோழி (2) நாககணவாய் (3) புறா
33. வதிவிடம் தொடர்பான சான்றிதழைப் பெறுவதற்காகச் செய்ய வேண்டிய இடம் எது?  
(1) பிரதேச செயலாளர் அலுவலகம் (2) கிராம அதிகாரி அலுவலகம்  
(3) பிரதேச சபை அலுவலகம்
34. ஒரு குறித்த காலத்தில் மாத்திரம் பூக்கும் தாவரம் பின்வருவனவற்றுள் எது?  
(1) வாகை (2) வாழை (3) பப்பாசி
35. சுவையான கறி சமைக்கப் பயன்படும் பூ வகையொன்று எது?  
(1) பலாப்பூ (2) அகத்திப்பூ (3) பொன்னாவரைப்பூ
36. வித்துக்கள் பரம்புவதற்கு உதவும் ஒரு பிராணி,  
(1) வெளவால் (2) தேனீ (3) அணில்
37. மண்ணின் உள்ளே மாத்திரம் வாழும் ஒரு பிராணி,  
(1) முள்ளப்பன்றி (2) மண்புழு (3) எலி
38. பிராணிகளின் வாழ்க்கைக்குத் தீங்கான செயல் அல்லாதது,  
(1) மண்ணில் சுடுநீர் ஊற்றுதல் (2) மண்ணில் கூட்டெரு சேர்த்தல்  
(3) மரங்களைத் தறித்தல்
39. காற்றினால் பரம்பும் ஒரு வித்து வகை,  
(1) இறப்பர் (2) துத்திரிப்புல் (3) எருக்கலை
40. உலக மரபுரிமையாகப் பாதுகாக்கப்பட்டுள்ள ஒரு காடு,  
(1) சிங்கராஜ வனம் (2) வஸ்கமுவ வனம் (3) வில்பத்து வனம்
41.  இலங்கையின் நற்பெயருக்காக உழைத்தவரான இப் படத்தில் காட்டப்பட்டிருப்பவர் யார்?  
(1) அனாகரிக்க தர்மபால அவர்கள்  
(2) கொங்காலேகொட பண்டா அவர்கள்  
(3) மொனரவில கப்பெட்டிப்பொல திசாவை அவர்கள்
42.  படத்தில் தரப்பட்டுள்ள இலச்சினை எந்த அரசு நிறுவனத்துக்கு உரியது?  
(1) இலங்கை அஞ்சல் / தபால் திணைக்களம்  
(2) இலங்கை ரூபவாஹினிக் கூட்டுத்தாபனம்  
(3) ஸ்ரீலங்கன் விமான சேவை
43. வெட்டிய பின்பு கழுவாது பயன்படுத்தப்படும் ஓர் உணவு வகை  
(1) பாகற்காய் (2) பூசனிக்காய் (3) பொன்னாங்கண்ணிக்கீரை

44. சுவரின் நிலைக்குத்துத் தன்மையை அறிவதற்காகப் பயன்படுத்தப்படும் ஓர் உபகரணம்,  
(1) மட்டப்பலகை (2) தூக்குக்குண்டு (3) நீர்மட்டம்

45. சமைக்காது பச்சையாக உண்ணக்கூடிய ஓர் உணவுப் பொருள்  
(1) பீட்றூட் கிழங்கு (2) போஞ்சி (3) கெக்கரிக்காய்

46. நீரில் நன்கு கரையும் ஒரு பொருள்  
(1) நீலத்தூள் (2) கொண்டிசுத்தூள் (3) மஞ்சள் தூள்

47. மரக்கட்டையொன்றின் ஆணி அறைவதற்காகச் சுத்தியலைப் பிடிக்க வேண்டிய சரியான முறை எது?

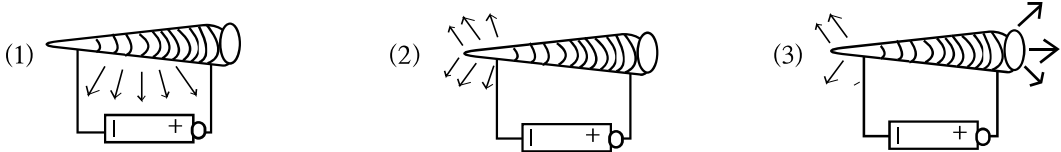


48. கூட்டாகச் சேர்ந்து வாழ்க்கை நடத்துவதற்காக இருக்க வேண்டிய நல்ல பண்புகளுள் **அடங்காதது** எது?

- (1) தமது கருத்தையே ஏனையோர் ஏற்றுக்கொள்ள வேண்டும் எனக் கருதுதல்  
(2) கூட்டாகச் சேர்ந்து செயற்படுதல்  
(3) திடமான நம்பிக்கையுடன் செயற்பட்டு சவால்களை வெற்றி கொள்ளல்


49. நுளம்பினால் பரப்பப்படும் ஒரு நோய்,  
(1) சின்னமுத்து நோய் (2) யானைக்கால் நோய் (3) வாந்திபேதி நோய்

50. பின்வரும் மின்காந்தங்களுள் மிகக் கூடுதலான காந்த சக்தி உள்ள இடத்தைச் / இடங்களைச் சரியாகக் காட்டுவது எது?




51. இந்த உருவத்தில் காட்டப்பட்டுள்ள உபகரணத்தைப் பயன்படுத்தி,

- (1) காற்றின் வேகத்தை அளக்கலாம்.  
(2) காற்று வீசும் திசையை அறியலாம்.  
(3) மின்னல் தாக்கத்திலிருந்து பாதுகாப்புப் பெறலாம்.




52. மூன்று மாவட்டங்களை உள்ளடக்கிய ஒரு மாகாணம்,  
(1) ஊவா மாகாணம் (2) வடக்கு மாகாணம் (3) மத்திய மாகாணம்

53. இலங்கையின் இரண்டாவது சருவதேச விமான நிலையம் அமைந்துள்ள இடம்,  
(1) கட்டுநாயக்கா (2) மத்தளை (3) இரத்தமலாணை



54. குழல் நேயமான பூச்சிக்கொல்லி தயாரிப்பதற்கு மிகப் பொருத்தமான ஒரு வித்து வகை,  
(1) வேப்பம் வித்து (2) கடுகு வித்து (3) பப்பாசி வித்து
55. குழு விளையாட்டுகளில் ஈடுபடுவோருக்குப் பொருத்தமற்ற ஒரு பண்பு,  
(1) தலைமைத்துவத்தை மதித்தல்  
(2) தமது பங்கை நன்றாகச் செய்தல்  
(3) தாம் விரும்பியவாறு செயற்படல்
56. காந்தமொன்றை அருகே கொண்டு செல்வதால் ஈர்க்கப்படுவது,  
(1) பித்தளை ஆணி (2) பிளாத்திக்குத் துண்டு (3) இரும்பு ஆணி
57. சிறிய தீக்காயத்துக்குச் சிகிச்சை செய்யப்பயன்படும் ஒரு தாவர வகை,  
(1) பொன்னாவரை (2) கற்றாளை (3) பப்பாசி
58. பயிர்களைத் தாக்கும் ஒரு பிராணி,  
(1) தண்டுகோதி (2) மண்புழு (3) ஆந்தை
59. பின்வருவனவற்றுள் தொழிற் பாட்டு எது?  
(1) தாலாட்டு (2) அரிவுவெட்டும் பாட்டு (3) வில்லுப்பாட்டு
60. இலங்கை எமது தாய் நாடு. அதனைப் பாதுகாப்பது எமது கடமை. கடந்த காலங்களில் நாட்டைக் காக்கப் பாடுபட்டோர் பலராவர். அவர்களது சேவையைக் கருத்திற் கொண்டு, “இலங்கை நாட்டுக்காக நான் செய்ய வேண்டிய சேவை” எனும் தலைப்பின் கீழ் மூன்று வாக்கியங்கள் எழுதுக. (ஒவ்வொரு வாக்கியத்திலும் ஐந்து சொற்களுக்கு மேல் இருத்தல் வேண்டும். வாக்கியங்களில் எழுவாய், பயனிலை, தொடர்பும் எழுத் தமைப்பும் சரியாக இருத்தல் வேண்டும்.)

- (i) .....
- .....
- (ii) .....
- .....
- (iii) .....
- .....





**පෙරහුරු ප්‍රශ්න පත්‍රය - අංක 02**  
**11 පත්‍රය - පිළිතුරු**

ප්‍රශ්න අංකය	පිළිතුරු	ලකුණු	ප්‍රශ්න අංකය	පිළිතුරු
01. (i)	දියමන්තිය	1	30)	2
(ii)	දෙදෙනෙක්	1	31)	1
(iii)	දිවයිනේ	1	32)	1
(iv)	නැත්තෙමු.	1	33)	2
(v)	(ii) ලංකාවේ සුන්දරත්වය	1	34)	1
(vi)	සුන්දර / සුමනිරි / සුන්දරත්වය / අනර්ඝතම	1	35)	2
02. (i)	තද සුළඟ හේතුවෙන් නිවාසවලට හානි සිදු විය.	1	36)	1
(ii)	ඇය පොත් පුද්ගලයට සහභාගී වූවා ය.	1	37)	2
03. (i)	පරවෙනවා	2	(ii)	අවසානය
04. (i)	ගෘහය	2	(ii)	අවශ්‍ය
05. (i)	බැලුවේ ය	3	(ii)	නංගි
			(iii)	සාදනි
06.	"මැදැහිල්ල තමයි ලොකකා" නංගි උත්තර දුන්නා.	1	40)	1
07. (i)	ගුරුවරයෙක්	2	(ii)	පියෙකු
08.	මඬේ නිටවූ ඉන්නක් වගේ	1	42)	3
09.	හැම දෙයක් ම නිවිලා යනවා	1	43)	3
10.	ඉතාම කුඩා ප්‍රමාණයක්	1	44)	2
11. (i)	අලියා	2	45)	3
	(ii)	අඹ	46)	2
12. (i)	Blackboard	1	47)	2
13. (i)	am	2	(ii)	is
14.	ශිෂ්‍යයා	1	48)	1
15.	හේනිරි කුඩිඳුංගල්	1	49)	2
16.	21009	2	50)	3
17. (i)	4059	2	51)	2
18. (i)	VIII	2	(ii)	IV
19. (i)	කොටු 2 යි.	2	52)	3
	(ii) 27	2	53)	2
20.	ඝනකය	2	54)	1
21. (i)	27	2	(ii)	45
22. (i)	පැත්තල 3	3	(ii)	රූපියල 40.00
	(ii)	රූපියල 136.50	(iii)	රූපියල 136.50
23.	90ml	2	58)	1
24.	3kg 750g	2	59)	2
25. (i)	240	2	(ලකුණු 1 x 30)	
	(ii)	ඉතිරි ඔබ්බ 2 යි.	60)	දෙන ලද උපදෙස් අනුව
26. (i)	22 km	2	නිවැරදි වාක්‍ය කුනක් ලියා	
	(ii)	නැගෙනහිර දිශාව	නිබිය යුතුයි. (ලකුණු 6 යි)	
27.	පස්වරු 11.45	2	සමස්ත පිළිතුරු පත්‍රයේම අත් අකුරු සහ ඉලක්කම් සලකා ඔබ්බ අතිරේක ලකුණු 02 ක් ප්‍රදානය කරන්න.	
28.	සාප්තකෝණය	2		
29. (i)	නිවැරදි ප්‍රමාණයට ඇඳ ලකුණු කර තිබිය යුතුයි.	1		
	(ii)	7	1	
	(iii)	කැවුම් සහ අතිරස	1	
			<b>මුළු ලකුණු 100</b>	