

தேசிய சேமிப்பு வங்கியின் அன்பளிப்பாகும்.



முற்பயிற்சி வினாத்தாள் - 01

பாடசாலைக்கு மாணவர்களைத் தெரிவு செய்வதற்கும் மாணவர் உதவி வழங்குவதற்குமாக ஐந்தாந் தர மாணவர்களுக்காக நடாத்தப்படும் பரீட்சை - 2022

EXAMINATION GRADE FIVE STUDENTS FOR SELECTION TO SCHOOL AND FOR THE AWARD OF BURSARIES - 2022

பத்திரம் II

01 மணி 15 நிமிடம்

சுட்டிலக்கம்:

பரீட்சைக்குத் தோற்றும் உங்களுக்குரிய அறிவுறுத்தல்கள்:

- உங்களது **சுட்டிலக்கத்தை** மேலே தரப்பட்டுள்ள கட்டத்தினுள் புள்ளிக்கோட்டின்மீது எழுதுக.
- மூன்றாம் பக்கத்தில் தரப்பட்டுள்ள குறித்த இடத்திலும் உங்கள் **சுட்டிலக்கத்தை** எழுதுக.
- இவ்வினாப்பத்திரத்தில் 40 வினாக்கள் உள்ளன. **எல்லா வினாக்களுக்கும் இவ்வினாத்தாளிலேயே விடையளிக்கുക. (சில வினாக்களில் உப பகுதிகளும் உள்ளன.)**
- நான்கு விடைகள் தரப்பட்டுள்ள வினாக்களில் **சரியான விடையைத் தெரிவுசெய்து கீழ்க் கோடிடு**
- விடை எழுதுவதற்குரிய வினாக்களின் விடைகளைப் புள்ளிக்கோட்டின் மீது எழுதுக.
- விடையின் கீழ்க் கோடிடுக எனக் கூறப்பட்டுள்ளதாயின், **கோடு மாத்திரம் வரைக.**
- செய்து பார்த்தலுக்காக ஒரு **கடதாசித்தாள் தரப்படும்.**

விடைத்தாள் பரீட்சகர்களுக்கு மாத்திரம்.

பக்க எண்	பெற்ற புள்ளி
02	
03	
04	
05	
06	
07	
08	
மொத்தம்	
இறுதிப்புள்ளி	
இலக்கத்தில்	
எழுத்தில்	

	சுருக்க ஒப்பமும் குறியீட்டிலக்கமும்
முதலாம் பரீட்சகர் புள்ளிவழங்கும் திட்டத்தின் படி விடைத்தாள் மதிப்பீடு செய்தமையை உறுதிப் படுத்துகிறேன்.	V/II/S
இரண்டாம் பரீட்சகர் முதலாம் பரீட்சகர் செய்துள்ள மதிப்பீடு சரி யானது என உறுதிப் படுத் துகிறேன்.	V/II/S
மதிப்பீட்டுப் புள்ளி களை உறுதிப் படுத்தும் பரீட்சகர் மதிப்பீடு செய்து, வழங்கியுள்ள புள்ளி களும் இறுதிப்புள்ளியும் சரியானவை என உறுதிப்படுத்துகிறேன்.	V/II/S/EMF
பிரதம பரீட்சகர் மேற்பார்வை செய்தேன். இறுதிப்புள்ளி சரியானது.	V/II/S/CH

தயாரிப்பு: சட்டத்தரணி கிரேசன் குலரத்ன - ஓய்வுபெற்ற பணிப்பாளர், முன்பிள்ளைப்பருவ விருத்தி மற்றும் ஆரம்பக்கல்வித் திணைக்களம், தேசிய கல்வி நிறுவகம் - தொ.இல: 071-4500044

01. பின்வரும் பந்தியை வாசியுங்கள்.

நீல வாளைச் செந்நிறமாக்கிய கதிரவன், தன் பொற்கரங்களை நீட்டி பனித்துளிகளைத் தொட்டுச் செல்கிறான். கதிரவனின் பொற்கரம் பட்டதும் இலைகளின் நடுவே இரத்தினக் கற்களாக மின்னிய பனித்துளிகள் மெல்ல மெல்ல மறையத் தொடங்கின. பச்சைப் பட்டாடை விரித்தாற் போல் காட்சிதரும் வயல் வெளிகளும் புல்வெளிகளும் காலை நேரத் தென்றலுக்குத் தலை அசைக்கின்றன. சில்லென வீசும் புதுத் தென்றல் புத்துணர்ச்சியூட்ட, பசுக்களும் தாய்ப் பசுவை முட்டி மோதி முந்திக்கொண்டு துள்ளிக் குதித்தோடும் பசுக்கன்றுகளும் புற்றரைகளை நோக்கி விரைந்து செல்கின்றன.

• பந்தியைத் துணையாகக் கொண்டு விடை தருக.

(i) பொற்கரங்களை நீட்டி பனித்துளிகளைத் தொட்டுச் செல்வது யார்?

.....

(ii) காலை நேரத் தென்றலுக்கு தலை அசைப்பவை எவை?

.....

(iii) புத்துணர்ச்சியூட்டுவது எது?

.....

(iv) இணைமொழி ஒன்று தருக.

.....

(v) பந்தியிலுள்ள அடைமொழிச் சொல் ஒன்றைத் தருக.

.....

(vi) புற்றரைகள் என்பதைப் பிரித்து எழுதுக.

.....

02. பின்வரும் சொற்களில் சரியாக எழுத்து கூட்டப்பட்டுள்ள சொல்லின் கீழ்க் கோடிடுக.

(i) கடல்க்கரை கடற்கரை கடற்கறை

(ii) கத்திரிக்கோல் கத்திரிக்கோள் கத்திரிக்கோல்

03. பின்வரும் வாக்கியங்கள் சரியாயின் () எனவும் பிழையாயின் பிழை () எனவும் அடையாளமிடுக.

(i) சிங்கங்கள் தனித்தனியாகவே வாழ்கின்றன. ()

(ii) பெண்கள் வயலில் நாற்று நட்டார்கள் ()


(iii) கோழி தனது குஞ்சுகளைப் பாதுகாத்தன. ()



ஊழி ஸீலுடு ஈழீழீ ஊழீ ஊழீ


04. கீழே தரப்பட்டுள்ள வாக்கியங்களில் இருக்கும் வெற்றிடத்திற்குப் பொருத்தமான சொல்லை அடைப்புக்குள்ளிருந்து தெரிவு செய்து அதன் கீழ்க் கோடிடுக.

(i)இருக்கும் இளம் கலைஞர்களுக்குச் சந்தர்ப்பம் வழங்க வேண்டும். (அத்திபூதாற்போல, இலைமறை காய் போல)

(ii) பரீட்சையில் சித்தி அடைவதற்காக குமரன் பாடுபட்டுப் படித்தான். (அல்லும் பகலும், சீரும் சிறப்புமாக)



05. பின்வரும் சுருக்கக்குறியீட்டின் விரிவாக்கத்தை எழுதுக.
(i) இ.போ. ச
(ii) இ.ஒ. கூ
06. பின்வரும் வாக்கியங்களில் உள்ள பிழைகளைத் திருத்தி மீண்டும் எழுதுக.
(i) வைத்தியசாலையில் நோயாழி அனுமதிக்கப்பட்டார்.
.....
(ii) மல்லிகைப் பூக்கல் நருமனம் வீசின.
.....
07. பின்வரும் வாக்கியங்களை எழுத்து மொழியாக்கி மீண்டும் எழுதுக.
(i) கிளி மாமரத்திலை இருந்தது.
.....
(ii) நான் தங்கைக்கு இனிப்பு குடுத்தேன்.
.....
08. உயர்திணை இறந்தகால ஒருமை வினைச் சொல்லைத் தெரிவு செய்து அதன் கீழ்க் கோடிடுக.
(i) ஓடினான் (ii) சென்றது (iii) பிரகாசித்தன
09. பின்வரும் பழமொழியைப் பூர்த்தி செய்யப் பொருத்தமான சொல்லை வைத்து கீறிட்ட இடத்தை நிரப்புக.
அடம்பன் கொடியும் மிடுக்கு
10. பின்வரும் சந்தர்ப்பத்திற்குப் பொருத்தமான பழமொழியைப் புள்ளிக் கோட்டில் எழுதுக.
சந்தர்ப்பம் கிடைக்கும்: போது அதனைத் தவறவிடக் கூடாது.
.....
11. கீழே தரப்பட்டுள்ள ஆங்கிலச் சொற்களின் பொருளைத் தமிழில் எழுதுக.
(i) Well (ii) Flowers
12. கீழே உள்ள படங்களுக்குப் பொருத்தமான ஆங்கிலச் சொல்லை ஆங்கில எழுத்துக்களில் எழுதுக.
(i) 
(ii) 
13. கீழே தரப்பட்டுள்ள ஆங்கில வாக்கியத்தின் இடைவெளியை நிரப்புவதற்குப் பொருத்தமான சொல்லை அடைப்பினுள் உள்ள சொற்களிலிருந்து தெரிவு செய்து அதன் கீழ்க் கோடிடுக.
Where (is / are) you going?

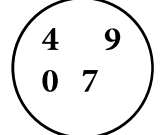


14. கீழே தமிழ் எழுத்துக்களால் தரப்பட்டுள்ள சிங்களச்சொல்லின் பொருளைத் தமிழில் எழுதுக. குருவரயா


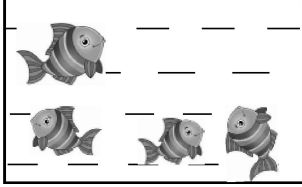
15. பின்வரும் வாக்கியத்தைச் சிங்களத்தில் கூறும் விதத்தைத் தமிழ் எழுத்துக்களில் எழுதுக. உங்கள் பெயர் என்ன?

16. (i) நாற்பத்து ஏழாயிரத்துத் தொண்ணூற்று ஒன்பது எனும் எண்ணுடன் ஒற்றைக் கூட்டுவதால் கிடைக்கும் எண்ணை இலக்கத்தில் எழுதுக.

(ii) வட்டத்தில் தரப்பட்டுள்ள எல்லா இலக்கங்களையும் பயன்படுத்தி, அமைக்கக்கூடிய மிகச் சிறிய எண்ணை எழுதுக.



17. கீழே தரப்பட்டுள்ள இரண்டு தொட்டிகளிலும் உள்ள மீன்களின் கூட்டுத்தொகையை உரோம இலக்கங்களில் எழுதுக.



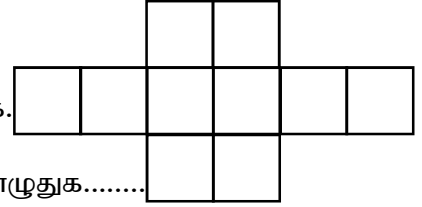
.....

18. தரப்பட்டுள்ள எண் கோலங்களில் இடைவெளிக்கப் பொருத்தமான எண்ணை எழுதுக.

(i) 15, 22, 29, 36,

(ii) 0.5, 2, 3.5, 5,

19. (i) தரப்பட்டுள்ள படத்தில் 0.3 இனை நிறந்தீட்டுக.



(ii) நிறந்தீட்டாத பகுதியை பத்தின் பங்குகளாக எழுதுக.....

20. மண்டபமொன்று சுவர்களால் பிரிக்கப்பட்டுள்ள விதம் கீழே படத்தில் தரப்பட்டுள்ளது.

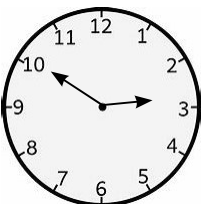
3m 50cm	5m 75cm	3m
---------	---------	----

இந்த மண்டபத்தின் மொத்த நீளம் எவ்வளவு?

21. 3 இலீற்றர் 250 மில்லி இலீற்றர் தேங்காயெண்ணைய்யை 250 மில்லிலீற்றர் அளவுள்ள சிறிய போத்தல்களில் ஊற்ற வேண்டியுள்ளது. அதற்குத் தேவையான சிறிய போத்தல்கள் எத்தனை?


22. ஒரு வியாபாரி 240 தோடம்பழங்களை வாங்கி தான் $\frac{3}{4}$ ஐ விற்பனை செய்தார். அவர் விற்பனை செய்த தோடம்பழங்களின் எண்ணிக்கை யாது?

23.

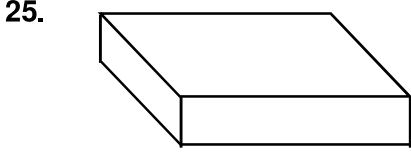



இந்த கடிகார முகப்பு காலை வேளை நேரத்தைக் காட்டுகிறது. அதனை இருபது நான்கு மணிக் கடிகார நேரமாக எழுதுக.

.....



24. தரப்பட்டுள்ள உருவத்தில் உள்ள சமச்சீர் அச்சுக்கள் எத்தனை?
.....



25. தரப்பட்டுள்ள திண்மப் பொருளில் உள்ள,
(i) உச்சிகள் எத்தனை?
(ii) விளிம்புகள் எத்தனை?
(iii) முகப்புக்கள் எத்தனை?

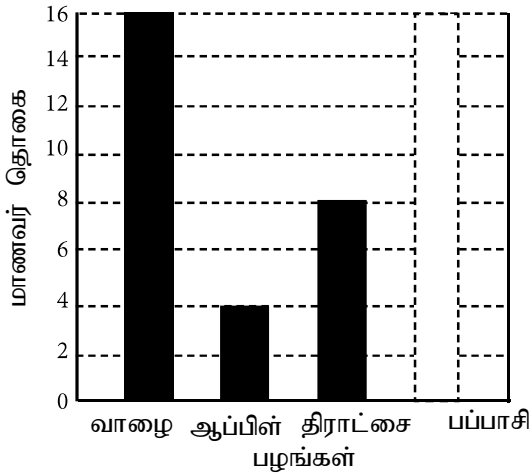
26. ஒரு மாணவன் ஒன்று 30 ரூபாய்ப்படி 5 மாம்பழங்களும் ஒன்று 40 ரூபாய்ப்படி மூன்று தோடம்பழங்களும் வாங்கினான்.

- (i) அதற்காக அவன் செலுத்த வேண்டிய பணம் எவ்வளவு?
- (ii) பழங்களுக்காக வியாபாரிக்கு 1000 ரூபாய் நாணத்தாள் ஒன்று கொடுத்தானாயின், அம்மாணவனுக்கு மீதியாகக் கிடைக்கும் பணம் எவ்வளவு?

27. ஒரு மாணவன் ஓர் இடத்தில் இருந்து கிழக்காக 100 மீற்றர் சென்று, அந்த இடத்திலிருந்து இடது கைப்பக்கமாகத் திரும்பி, மேலும் 50 மீற்றர் சென்றான். பின்னர் அந்த இடத்தில் இருந்து இடது பக்கமாகத் திரும்பி, மேலும் 100 மீற்றர் சென்று தரித்து நின்றான். அவன் இப்போது ஆரம்பித்த இடத்தில் இருந்து எந்தத் திசையில் உள்ளான்?

28. 420 அப்பியாசப் புத்தகங்களை ஒவ்வொன்றிலும் 4 புத்தகங்கள் அடங்கிய பெதிகளாகக் கப்பட்டன. அவ்வாறு தயாரிக்கக்கூடிய பொதிகள் எத்தனை?

29. ஒரு பாடசாலையில் சில மாணவர்கள் உண்ண விரும்பும் பழங்கள் தொடர்பான விவரங்கள் தரப்பட்டுள்ளன.



(i) வாழைப்பழத்தை விரும்பும் மாணவர் தொகை, ஆப்பிள் பழத்தை விரும்பும் மாணவர்களின் எத்தனை மடங்கு ஆகும்?


(ii) மிகைக் குறைவான மாணவர்கள் விரும்பும் பழவகை எது?

(iii) பப்பாசிப் பழத்தை விரும்பும் மாணவர் தொகை 10 ஆகும். அதனை வரைபில் குறித்துக் காட்டுக.

• இலக்கம் 30 தொடக்கம் 59 வரையிலான ஒவ்வொரு வினாவிலும் பொருத்தமான விடையைத் தெரிவு செய்து அதன் கீழ்க் கோடிடுக.

30. அதிக மோப்பச்சக்தி உள்ள ஒரு பிராணி,

- (1) ஆடு (2) நாய் (3) செண்பகம்

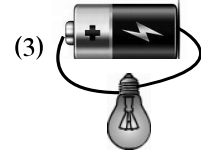
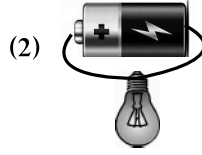
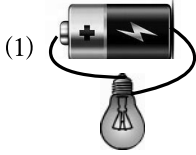


31. விசேட திறமையுள்ள ஒரு பிராணி,
(1) கறையான் (2) வண்ணாத்திபூச்சி (3) மைனா
32. மரக்குற்றியொன்றினை இரண்டாகப் பிளப்பதற்குப் பொருத்தமான ஓர் உபகரணம்,
(1) மண்வெட்டி (2) கோடாரி (3) அலவாங்கு
33. கால வேறுபாடு இல்லாது எல்லாக் காலங்களிலும் கனி தரும் மரம்,
(1) ரம்புட்டான் (2) மா (3) வாழை
34. நான்கு இதழ்கள் உள்ள ஒரு மலர்,
(1) நாக மலர் (2) மல்லிகை மலர் (3) செவ்வந்தி மலர்
35. பல வித்துக்கள் உள்ள ஒரு காய் வகை,
(1) வெரளிக்காய் (2) பூசனிக்காய் (3) யானைக் கொய்யா
36. நீரிழிவு, கொழுத்த உடல் போன்ற நோய்களைக் கொண்டவர்கள் சந்தையில் பான வகைகள் வாங்கும் பொது விசேடமாமகக் கவனிக்க வேண்டிய ஒரு விடயம்
(1) உற்பத்திப் பொருளின் விலை
(2) உற்பத்தித் திகதி
(3) அடங்கியுள்ள பொருள்கள் பற்றிக் குறிப்பிடப்பட்டுள்ள நிறங்களடக்கிய சுட்டி
37. உடலுக்குச் சக்தி தரும் உணவு வகை ஒன்று,
(1) வற்றாளைக்கிழங்கு (2) கீரை (3) வெண்டிக்காய்
38. மயக்கமடைந்துள்ள ஒருவருக்காகச் செய்யக்கூடிய மிகப் பொருத்தமான முதலுதவி,
(1) அவருக்கு நீர் பருக்குதல்
(2) அவரது உடைகளைத் தளர்த்தி, முகத்தில் சிறிது நீர் தெளித்தலும் தலை தாழ்வாக இருக்குமாறு சாய்ந்திருக்கச் செய்தலும்
(3) அவருக்குச் சிறிதளவு உணவு கொடுத்தல்
39. தொற்றும் நோயாளி ஒருவர், அந்த நோய் ஏனையோருக்குத் தொற்றுவதைத் தவிர்ப்பதற்காக எடுக்க வேண்டிய நடவடிக்கைகளில் **அடங்காதது?**
(1) நோயாளி சுகமடையும் வரையில் வீட்டில் ஓர் அறையில் ஓய்வாக இருத்தல்.
(2) வைத்திய ஆலோசனை பெறாது பாரம்பரியமான நம்பிக்கைகளின்படி செயற்படுதல்
(3) இருமல், தும்மல், மூக்கிலிருந்து சளி வடிதல் போன்ற சந்தர்ப்பங்களில் கைக்குட்டை பயன்படுத்தல்.
40. வீட்டுத்தோட்டமொன்றினை நடத்திச் செல்வதால் கிடைக்கும் ஒரு நன்மை **அல்லாதது** எது?
(1) பத்தம்புதிய உணவு கிடைத்தல்
(2) நச்சுத்தன்மை இல்லாத உணவு கிடைத்தல்
(3) வீட்டின் அழகு குறைவடைதல்

41. தண்டுத்துண்டுகளை நாட்டி புதிய தாவரங்களை உற்பத்தி செய்யக்கூடிய தாவரம்,
(1) வெண்டி (2) பூசணி (3) வற்றாளை

42. வரைவோன் சில்லு பயன்படும் கைத்தொழில் எது?
(1) மட்பாண்டக் கைத்தொழில் (2) மீன்பிடிக்கை கைத்தொழில்
(3) மரவேளைக் கைத்தொழில்

43. கீழே தரப்பட்டுள்ள சந்தர்ப்பங்களுள் மின்குமிழ் ஒளிரும் சந்தர்ப்பம் எது?



44. தேசப்படங்களில் அதிவேகப் பாதைகளைக் காட்டும் குறியீட்டின் நிறம் யாது?
(1) சிவப்பு (2) ஊதா (3) கறுப்பு

45. பொது வாகனங்களில் பயணம் செய்யும் போது கடைப்பிடிக்க வேண்டிய ஒரு நற்பழக்கம்?

- (1) இடவசதி இல்லாத சந்தர்ப்பங்களில், மிதி பலகையில் பயணம் செய்தல்
(2) சாரதியுடன் உரையாடி அவரை உசாராக வைத்திருத்தல்
(3) நோயாளி ஒருவர் வாகனத்தில் ஏறியவுடன் அவருக்குத் தமது ஆசனத்தை வழங்குதல்

46. சேதமடைந்துள்ள கிராமப் பாதையொன்றினைச் செப்பணிடுமாறு அறிவிக்க வேண்டிய நிறுவனம் எது?

- (1) பிரதேச சபை (2) பிரதேச செயலாளர் அலுவலகம்
(3) கிராம அதிகாரி அலுவலகம்

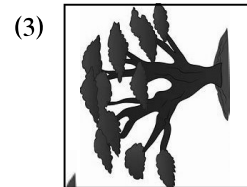
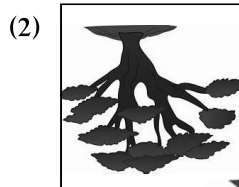
47. அரசு இலச்சினையில் மலர் இதழ்களால் காட்டப்பட்டிருப்பது யாது?

- (1) செளபாக்கியம் (2) தன்னிறைவு (3) தூய்மை

48. மீள் சுழற்சி செய்வதற்குப் பொருத்தமற்ற ஒரு பொருள்


- (1) கடதாசி (2) பொலித்தீன் (3) தென்னந்தும்பு

49. ஊசித்துளைக் கமராவினால் ஒரு மரத்தைப் பார்ப்பதால் அது காட்சியளிக்கும் விதத்தைக் காட்டும் உருவத்தைத் தெரிவு செய்க.



50. போதுமான அளவுக்கு நீர் பருகாத போது உடலினால் உணரப்படும் அசௌகரியம் அல்லாதது எது?

- (1) சிந்தனை செய்யும் திறன் குறைவடைதல் (2) சிறுநீர் கடும் நிறமாக மாறுதல்
(3) தோல் உலர்தல்



51.



இந்த உருவத்தில் காட்டப்பட்டுள்ளவர் யார்?

- (1) ஆனந்த குமாரசுவாமி அவர்கள்
- (2) ரீ.பி. ஜாயா அவர்கள்
- (3) சீ.டபிள்யூ.டபிள்யூ. கன்னங்கர அவர்கள்

52.

மகசென் மன்னன் கட்டுவித்த குளம் எது?

- (1) பசவக்குளம்
- (2) மின்னேரியாக்குளம்
- (3) திசாவெவைக் குளம்

53.

பெருந்தொகையானோருக்கு மிக விரைவாக தகவல்களை அறிவிப்பதற்கு மிகச் சிறந்த ஒரு ஊடகம் எது?

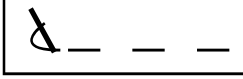
- (1) பத்திரிகை
- (2) பறையடித்தல்
- (3) வானொலி

54.

‘மொன்னாட்ட’, ‘பொக்கி’ போன்ற சொற்கள் எந்த மக்கட் பிரிவின் மொழியில் அடங்கியுள்ளது?

- (1) முஸ்லிம்களின்
- (2) வேட்டுவரின்
- (3) மீனவரின்

55.



படத்தில் தரப்பட்டுள்ள தையல் வகை எது?

- (1) கம்பளித்தையல்
- (2) நூலோடல்
- (3) சங்கிலித்தையல்

56.

வீட்டில் எல்லோராலும் பொதுவில் பயன்படுத்தப்படும் ஓர் உபகரணம்,

- (1) சீப்பு
- (2) தேநீர் வடி
- (3) தலையணை

57.

உளியைப் பயன்படுத்தும்போது தேவைப்படும் மற்றுமொரு உபகரணம்,

- (1) தட்டப் பொல்லு
- (2) மட்டப்பலகை
- (3) சுத்தியல்

58.

நீருடன் தொடர்புடைய பின்வரும் கூற்றுக்களுள் சரியானது எது?

- (1) நீருக்குத் திட்டவாட்டமான நிறம் கிடையாது.
- (2) நீருக்குத் திட்டவாட்டமான மணம் கிடையாது.
- (3) நீருக்குத் திட்டவாட்டமான வடிவம் உண்டு.

59.



தரப்பட்டுள்ள குறியீட்டினால் காட்டப்படுவது யாது?

- (1) மீள்கழற்சி செய்யலாம்
- (2) நொருங்கக்கூடியது.
- (3) சிற்றுண்டிச்சாலை

60.

வீட்டுத்தோட்டம், வீட்டை அழகுபடுத்தும். அவ்வாறான ஓர் வீட்டுத்தோட்டம் உங்களிடத்திலும் உண்டு எனக் கொண்டு, ‘எமது வீட்டுத்தோட்டம் அழகானது’ எனும் தலைப்பில் மூன்று வாக்கியங்கள் எழுதுக. (ஒவ்வொரு வாக்கியத்திலும் ஐந்து சொற்களுக்கு மேல் இருத்தல் வேண்டும். எழுவாய், பயனிலை தொடர்பும் எழுத்தமைப்பும் சரியாக இருத்தல் வேண்டும்.)

(i)


.....
.....

(ii)

.....
.....

(iii)

.....
.....



පෙරහුරු ප්‍රශ්න පත්‍රය - අංක 01
11 පත්‍රය - පිළිතුරු

ප්‍රශ්න අංකය	පිළිතුරු	ලකුණු	ප්‍රශ්න අංකය	පිළිතුරු
01. (i)	මුහුදින් හා විශාල නදියකින්	1	30)	2
(ii)	පොල් ගසින් හා දෙල් ගසින්	1	31)	1
(iii)	(අ) අපේ ගමේ සුන්දරත්වය	1	32)	2
(iv)	මිනිහකු	1	33)	3
(v)	මැණික් ගරන මිනිහකු ලොකු රතු කැටයක් ලත් විට ප්‍රීති වන්නාක් මෙනි	1	34)	1
(vi)	ඉදුණු	1	35)	2
02. (i)	අධික වර්ෂාව	1	36)	3
(ii)	යම් විපතකින් යාත්තමින් ගැළවීම	1	37)	1
03.	"අපි ඊළඟට යන්නේ කොහේ ද?"	1	38)	2
04. (i)	පිරෙයි	3	39)	2
(ii)	ලියුවා ය		40)	3
05. (i)	එළඳෙන වසු පැටියා නාවයි.	1	41)	3
(ii)	අම්මා බත් උයයි.	1	42)	1
06.	දිය කඳුරු සෙමින් පහළට ගලා බසීයි.	1	43)	1
07. (i)	කෞතුකාගාරය	2	44)	2
(ii)	නිර්මාණ		45)	3
08. (i)	බීමත්	2	46)	1
(ii)	අතල		47)	3
09.	මාරපත්	1	48)	3
10.	පීඳෙන හැටි බලන්න	1	49)	2
11. (i)	මිඳ	2	50)	1
(ii)	මල්		51)	1
12. (i)	Ruler	2	52)	2
(ii)	Pineapple		53)	3
13.	are	1	54)	2
14.	ගුරුවරයා / ගුරුවරිය	1	55)	2
15.	උංගල් පෙයර එන්න	1	56)	2
16. (i)	47100	4	57)	1
(ii)	4079		58)	3
17.	IX	2	59)	2
18. (i)	43	2	(ලකුණු 1 x 30)	
(ii)	6.5		60) දෙන ලද උපදෙස් අනුව නිවැරදි වාක්‍ය කුනක් ලියා නිබිය යුතුයි. (ලකුණු 6)	
19. (i)	කොටු 3 ක් පාට කර තිබීම අවශ්‍යයි	1	සමස්ත පිළිතුරු පත්‍රයේම අත් අකුරු සහ ඉලක්කම් සලකා බලා අතිරේක ලකුණු 02 ක් ප්‍රදානය කරන්න.	
(ii)	7/10	1		
20.	12m 25cm	2	මුළු ලකුණු 100	
21.	13	2		
22.	180	2		
23.	පැය 02 : 50	2		
24.	4	2		
25. (i)	8	3		
(ii)	12			
(iii)	6			
26. (i)	රුපියල් 270.00	2		
(ii)	රුපියල් 730.00	2		
27.	උතුර	2		
28.	105	2		
29. (i)	හතර ගුණයයි	1		
(ii)	ඇපල්	1		
(iii)	නිවැරදි ප්‍රමාණයට ඇඳ ලකුණු කර තිබිය යුතුයි.	1		