

தேசிய சேமிப்பு வங்கியின் அன்பளிப்பாகும்.



முற்பயிற்சி வினாத்தாள் - 05

பாடசாலைக்கு மாணவர்களைத் தெரிவு செய்வதற்கும் மாணவர் உதவி வழங்குவதற்குமாக ஐந்தாந் தர மாணவர்களுக்காக நடாத்தப்படும் பரீட்சை - 2022

EXAMINATION GRADE FIVE STUDENTS FOR SELECTION TO SCHOOL AND FOR THE AWARD OF BURSARIES - 2022

பத்திரம் II

01 மணி 15 நிமிடம்

சுட்டிலக்கம்:

பரீட்சைக்குத் தோற்றும் உங்களுக்குரிய அறிவுறுத்தல்கள்:

- உங்களது **சுட்டிலக்கத்தை** மேலே தரப்பட்டுள்ள கட்டத்தினுள் புள்ளிக்கோட்டின்மீது எழுதுக.
- மூன்றாம் பக்கத்தில் தரப்பட்டுள்ள குறித்த இடத்திலும் உங்கள் **சுட்டிலக்கத்தை** எழுதுக.
- இவ்வினாப்பத்திரத்தில் 40 வினாக்கள் உள்ளன. **எல்லா வினாக்களுக்கும் இவ்வினாத்தாளிலேயே விடையளிக்கുക. (சில வினாக்களில் உப பகுதிகளும் உள்ளன.)**
- நான்கு விடைகள் தரப்பட்டுள்ள வினாக்களில் **சரியான விடையைத் தெரிவுசெய்து கீழ்க் கோடிடு**
- விடை எழுதுவதற்குரிய வினாக்களின் விடைகளைப் புள்ளிக்கோட்டின் மீது எழுதுக.
- விடையின் கீழ்க் கோடிடுக எனக் கூறப்பட்டுள்ளதாயின், **கோடு மாத்திரம் வரைக.**
- செய்து பார்த்தலுக்காக ஒரு **கடதாசித்தாள் தரப்படும்.**

விடைத்தாள் பரீட்சகர்களுக்கு மாத்திரம்.

பக்க எண்	பெற்ற புள்ளி
02	
03	
04	
05	
06	
07	
08	
மொத்தம்	
இறுதிப்புள்ளி	
இலக்கத்தில்	
எழுத்தில்	

	சுருக்க ஒப்பமும் குறியீட்டிலக்கமும்
முதலாம் பரீட்சகர் புள்ளிவழங்கும் திட்டத்தின் படி விடைத்தாள் மதிப்பீடு செய்தமையை உறுதிப் படுத்துகிறேன்.	V/II/S
இரண்டாம் பரீட்சகர் முதலாம் பரீட்சகர் செய்துள்ள மதிப்பீடு சரி யானது என உறுதிப் படுத் துகிறேன்.	V/II/S
மதிப்பீட்டுப் புள்ளி களை உறுதிப் படுத்தும் பரீட்சகர் மதிப்பீடு செய்து, வழங்கியுள்ள புள்ளி களும் இறுதிப்புள்ளியும் சரியானவை என உறுதிப்படுத்துகிறேன்.	V/II/S/EMF
பிரதம பரீட்சகர் மேற்பார்வை செய்தேன். இறுதிப்புள்ளி சரியானது.	V/II/S/CH

தயாரிப்பு: சட்டத்தரணி கிரேசன் குலரத்ன - ஓய்வுபெற்ற பணிப்பாளர், முன்பிள்ளைப்பருவ விருத்தி மற்றும் ஆரம்பக்கல்வித் திணைக்களம், தேசிய கல்வி நிறுவகம் - தொ.இல: 071-4500044

01. பின்வரும் பாடலை வாசித்து வினாக்களுக்கு விடை தருக.

சித்திரை வந்தால் வசந்தம் பிறக்கும்
வண்ண வண்ண பூக்கள் எங்கும்
கொத்துக் கொத்தாய் மலர்ந்து பொலியும்
இக்காட்சி தனைக் காணக் களிப்புடன் வாரீர்

பூக்களில் வண்டுகள் தேன் குடிப்பதைப் பாரீர்
மகிழ்வுடன் கீதம் இசைப்பதைக் கேளீர்
சிரகடித்த எழுந்த அங்குமிங்கும்
செல்வதைப் பாரீர் அதோ செல்வதைப் பாரீர்

■ **பாடலைத் துணையாகக் கொண்டு வினாக்களுக்கு விடை தருக.**

- (i) வசந்தம் பிறக்கும் மாதம் எது?
.....
- (ii) மகிழ்வுடன் கீதம் இசைப்பவை எவை?
.....
- (iii) சந்தோசமாக என்னும் கருத்தைத் தரும் இரு சொற்களும் என்ன?
.....
- (iv) இப்பாடலில் வந்துள்ள இணைமொழிச் சொல் யாது?
.....
- (v) “சிறகடித்து” என்னும் சொல்லைப் பிரித்து எழுதுக.
- (vi) பூவில் வண்டு தேன் குடிக்கிறது என்பதைப் பன்மை வாக்கியமாக எழுதுக.
.....

02. பின்வரும் வாக்கியங்களில் உள்ள பிழைகளைத் திருத்தி மீண்டும் எழுதுக.



- (i) மிலகாய்ச் செடி செளித்து வளர்ந்தது.
.....
- (ii) நான் மனல் வீடு கட்டினேன்.
.....

03. பின்வரும் சொற்கில் சரியான சொல்லைத் தெரிவு செய்க.

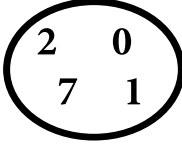
- (i) பூசோலை பூச்சோலை பூஞ்சோலை
(ii) திணைக்களம் திணைக்களம் திணைக்கலம்

04. பின்வரும் வாக்கியங்களுக்குப் பொருத்தமான இரட்டைக் களிவியை அடைப்பிலிருந்து தெரிவு செய்து எழுதுக.

- (i) ஆலயமணி என்று ஒலித்தது.
(ii) திருடன் என விழித்தான்.
(iii) நண்பனின் நகைச் சுவைப் பேச்சைக் கெட்ட நாங்கள்
எனச் சிரித்ததோம்.
(திரு திரு, பட பட, கல கல, கணீர் கணீர்)

05. கீழே தரப்பட்டுள்ள ஒவ்வொரு சொற்றொடருக்கும் உரிய தனிச் சொல்லைப் புள்ளிக் கோட்டின் மீது எழுதுக.
(i) ஐம்பதாவது ஆண்டின் இறுதியில் கொண்டாடப்படும் விழா.....
(ii) ஒரு தண்டிலே பல மலர்கள் மலர்ந்துள்ள பூக்கொத்து.....
06. பின்வரும் வாக்கியத்தின் இடைவெளிக்குப் பொருத்தமான மரபுச் சொற்களைத் தெரிந்து கீழ்க் கோட்டுக.
(i) அவர் தனது நண்பன் செய்த குற்றத்தை
(பூசிமெழுகினார், தட்டிக் கழித்தார்)
(ii) அந்தத் தனவந்தர் ஏழைக் குடும்பத்தை
(கைதூக்கிவிட்டார், ஆறப்போட்டார்)
07. பின்வரும் சுருக்கக் குறியீட்டின் விரிவாக்கத்தை எழுதுக.
இ.பெ.சு
இ.மி.ச
.....
08. பின்வரும் சொற்களைச் சேர்த்து எழுதுக.
(அ) வெண்டி + செடி
(ஆ) நாள் + காட்டி
09. பின்வரும் வாக்கியத்தை நிகழ்காலத்தில் எழுதுக.
நாங்கள் அனைவரையும் அன்புடன் வரவேற்றோம்
.....
10. பின்வருவனவற்றில் அ.றினை ஒருமை பெயர்ச் சொல்லின் கீழ்க் கீறிடுக.
(i) சிறுவர்கள் (ii) புத்தகம் (iii) பூக்கள்
11. ஒவ்வொரு உருவத்துக்கும் பொருத்தமான ஆங்கிலப் பெயரை ஆங்கில மொழியில் எழுதுக.


12. பின்வரும் ஒவ்வொரு ஆங்கிலச் சொல்லுக்குமுரிய தமிழ்ச் சொல்லை எழுதுக.
(i) **Yellow** (ii) **Parrot**
13. பின்வரும் வாக்கியத்தை ஆங்கில மொழியில் கூறும் விதத்தை ஆங்கில எழுத்துக் களில் எழுதுக.
தயவு செய்து என்னை மன்னியுங்கள்.
14. 'ஊ' எனும் சிங்களச் சொல்லின் பொருளைத் தமிழில் எழுதுக.
15. இந்த வாக்கியத்தைச் சிங்களத்தில் கூறும் விதத்தை சிங்கள எழுத்துக்களில் எழுதுக.
சந்தை எங்கே?
16. நாற்பத்தாறாயிரத்துத் தொண்ணூற்றொன்பது எனும் எண்ணை இலக்கத்தில் எழுதுக.
.....

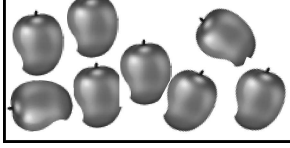
17.



- (i) வட்டத்தினுள் உள்ள எல்லா இலக்கங்களையும் பயன்படுத்தி அமைக்கத்தக்க மிகப்பெரிய எண்ணை எழுதுக.
(ii) பின்வரும் எண்களை ஏறுவரிசைப்படி ஒழுங்குபடுத்திய பின்னர் நடு எண் எது? 1407, 89, 1010, 2975, 820

18.

கீழே தரப்பட்டுள்ள மாம்பழங்களின் எண்ணிக்கையை உரோம இலக்கங்களில் எழுதுக.

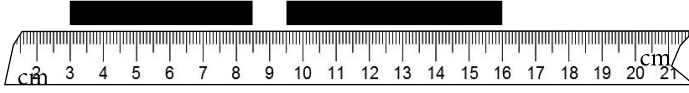


.....

19.

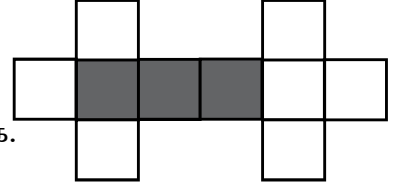
தரப்பட்டுள்ள இரண்டு கறுப்புநிற நாடாட் துண்டுகளினதும் மொத்த நீளம் எவ்வளவு?

.....




20.

- (i) உருவில் நிழற்றியுள்ள பகுதியை தசம எண்ணாக எழுதுக.
(ii) உருவில் நிழற்றாத பகுதியைப் பின்னமாக எழுதுக.



21.



இந்த உருவத்தில் சமச்சீர் கோடுகள் எத்தனை உள்ளன?

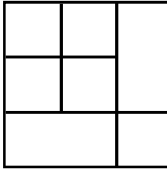
.....

22.

கொழும்பு பஸ் நிலையத்திலிருந்து மு.ப. 7.30 மணிக்குப் புறப்பட்ட ஒரு பேருந்து, பி.ப. 2.45 மணிக்கு அனுராதபுரத்தை வந்தடைந்தது.

- (i) இந்தப் பேருந்து கொழும்பிலிருந்து அனுராதபுரத்துக்குச் செல்வதற்கு எவ்வளவு நேரம் செலவாகியது?
(ii) பேருந்து அனுராதபுரத்தை அடைந்த நேரத்தை 24 மணிக் கடிகார நேரமாக எழுதுக.

23.



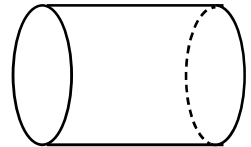
இந்த உருவத்தில் எத்தனை சதுரங்கள் உள்ளன?

.....

24.

உருவில் தரப்பட்டுள்ள உருளையில்,


- (i) எத்தனை முகப்புக்கள் உள்ளன?.....
(ii) வளையான விளிம்புகள் எத்தனை உள்ளன?



25.

பின்வரும் எண் கோலங்களில் இடைவெளிக்குப் பொருத்தமான எண்ணை எழுதுக.

- (i) 15, 22, 29,, 43, 50 (ii) 14, 18, 22,, 30, 34

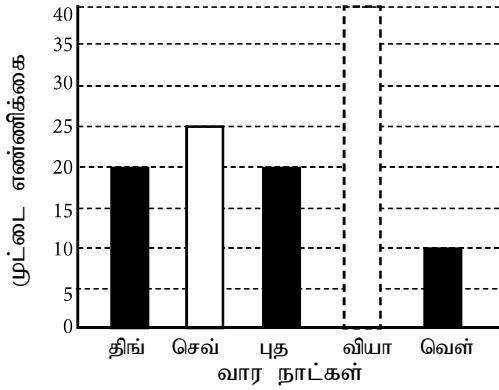


25. 263 அப்பியாசப் புத்தகங்கள் இருந்தன. அவை ஒரு மாணவனுக்கு 6 புத்தகங்கள் வீதம் சமமாகப் பகிர்ந்தளிக்கப்பட்டன.
- (i) அப்பியாசப் புத்தகங்கள் பெற்ற மாணவர் தொகை எவ்வளவு?
- (ii) பகிர்ந்தளித்த பின்னர் மீதியாக உள்ள அப்பியாசப் புத்தகங்கள் எத்தனை? .
.....

27. ஒரு மாணவன் பழக்கடைக்குச் சென்று பின்வரும் வழங்களை வாங்கினான்.
- ஒரு பழம் ரூபாய். 44.00 வீம் 3 ஆப்பிள் பழங்கள்.
- ஒரு பழம் ரூபாய். 50.00 வீம் 3 மாம் பழங்கள்.
- (i) பழங்கள் வாங்குவதற்குச் செலவாகிய மொத்தப் பணத்தொகை எவ்வளவு?
.....
- (ii) மாணவன் அவ்வியாபாரிக்கு ரூபா. 500 நாணயத்தாள் ஒன்றைக் கொடுத்தானாயின், மீதியாகக் கிடைக்கும் பணத்தொகை எவ்வளவு?

28. 22 இலீற்றர் 500 மில்லி நீர் கொள்ளத்தக்க ஒரு தொட்டியில் 4 இலீற்றர் 750 மில்லி லீற்றர் நீர் உள்ளது. அத்தொட்டியை முழுதாக நிரப்புவதற்கு மேலும் எவ்வளவு நீர் தேவை?

29. ஒரு கோழிப் பண்ணையில் 5 நாள்களில் கிடைத்த முட்டைகளின் எண்ணிக்கைகள் அடங்கிய அட்டவணையொன்று கீழே தரப்பட்டுள்ளது. அதனை விளங்கி வினாக்களுக்கு விடை தருக.




வார நாட்கள்	முட்டைகளின் எண்ணிக்கை
திங்கட் கிழமை
செவ்வாய்க்கிழமை	25
புதன் கிழமை	20
வியாழக்கிழமை	30
வெள்ளிக் கிழமை	10
மொத்தம்	105

- (i) வாரத்தில் கிடைத்த மொத்த முட்டைகளுள் 1:3 பங்கைத் தந்த இரண்டு நாள்களும் எவை?
- (ii) வியாழக்கிழமை கிடைத்த முட்டைகளின் எண்ணிக்கையை வரைபில் வரைந்து காட்டுக.
- (iii) திங்கட்கிழமை கிடைத்த முட்டைகளின் எண்ணிக்கையை அட்டவணையில் இடைவெளியில் எழுதுக.

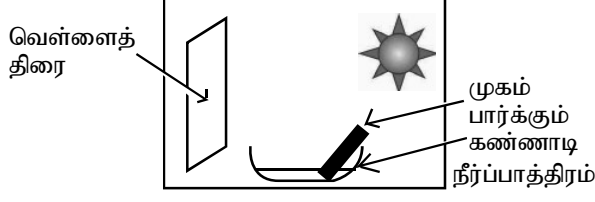
- இல. 30 தொடக்கம் 59 வரையுள்ள வினாக்களில் சரியான விடையைத் தெரிவு செய்த அதன் கீழ்க் கோடிடுக.

30. பூக்கள் பூக்கத் தாமதமாகும் தாவரம் பின்வருவனற்றுள் எது?
- (1) ஓக்கிட்டு (2) ரோசா (3) காசித்தும்மை
31. மண்ணில் நச்சுத்தன்மையை ஏற்படுத்தக்கூடிய ஒரு கழிவுப் பொருள்,
- (1) தேங்காய்ச் சிரட்டை (2) பொலித்தீன் உறை (3) துணித்துண்டுகள்



32. தேசிய கீதம் பாடும்போது நிற்கவேண்டிய விதத்தைச் சரியாகத் தருவது பின்வருவனவற்றுள் எது?
(1) தலையை நேராக வைத்து முன்னோக்கி நின்றல்
(2) உடலை நிமிர்த்தி இலகுவாய் நின்றல்
(3) கைகளைத் தொங்கவிட்டு விரல்களை மடக்கிவைத்து நிமிர்ந்து நின்றல்
33. இலங்கையின் தேசிய மரம்,
(1) அரசமரம் (2) நாகமரம் (3) பலாமரம்
34. முட்கள் உள்ள ஒரு தாவரம்,
(1) தொட்டாற் சிணுங்கி (2) இஞ்சி (3) மஞ்சள்
35. ஒரு மாணவன் பரிசோதனைக்காக புல் தரையில் ஓரிடத்தை சிரட்டையால் மூடிவைத்தான். சில நாள்களின் பின்னர் திறந்து பார்த்தான். இப்பரிசோதனை மூலம் அறிய முடிவது யாது?
(1) புல் சீராக வளர்வதற்கு சூரிய ஒளி தேவை
(2) புல் சீராக வளர்வதற்கு நீர் தேவை
(3) புல் சீராக வளர்வதற்கு இடவசதி தேவை
36. மெல்லிய நீண்ட இலைகள் உள்ள ஒரு தாவரம்,
(1) புளி (2) மூங்கில் (3) பலா
37. ஓர் அனைத்துமுண்டு விலங்கு,
(1) குரங்கு (2) ஆடு (3) கோழி
38. கழிவுப் பொருள்களை உக்கச் செய்து சூழலுக்கு உதவும் பிராணி,
(1) காகம் (2) செண்பகம் (3) கறையான்
39. பிராணிகளுக்கு நன்மை தரும் ஒரு செயல்,
(1) பறவைகளுக்கான ஓர் உணவுத் தட்டம் அமைத்தல்
(2) நிலத்தைக் கொத்துதல்
(3) காடுகளை அழித்தல்
40. பண்டைக் காலத்தில் புகையூட்டி உலர்த்தி நற்காப்புச் செய்யப்பட்ட ஓர் உணவுப் பொருள்,
(1) கறுவாப்பட்டை (2) எலுமிச்சம் வற்றல் (3) கருவாடு
41. தினமும் உரிய வேளையில் உணவு உட்கொள்ளாதோருக்கு ஏற்படக்கூடிய ஒரு நோய்,
(1) நீரிழிவு (2) இரைப்பை அழற்சி (3) உயர் குருதி அழுக்கம்
42. வீட்டுத்தோட்டம் செய்வதால் கிடைக்கும் ஒரு நன்மை அல்லாதது,
(1) சுத்தமான உணவு பெறலாம்.
(2) வீட்டின் அழகு கெடும்
(3) நச்சுத்தன்மை இல்லாத புத்தம் புதிய உணவு பெறலாம்.
43. கூட்டெரு தயாரிப்பதற்குப் பொருத்தமற்ற ஒரு பொருள்,
(1) சாம்பல் (2) உணவு மீதிகள் (3) பழந்துணி
44. கைக்குட்டையைப் பயன்பாடு தொடர்பான சரியான விடயம் அல்லாதது,
(1) தும்மும்போது வாயையும் மூக்கையையும் மறைத்துக் கொள்ளல்
(2) தேவைப்படும் சந்தர்ப்பங்களில் மேசை, கதிரைகளைத் துடைத்தல்
(3) தேவைப்படும் வேளைகளில் வாயையும் கைகளையும் துடைத்தல்.
45. ஒரு மாணவன், சிறிதளவு மண்ணை ஒரு வாயகன்ற கண்ணாடிப் போத்தலில் இட்டு, அதனுடன் நீர் சேர்த்து நன்கு கலக்கி ஓரிடத்தில் வைத்தான். சிறிது நேரத்தின் பின்னர் இக்கரைசலின் மேலே எதனைக் காண்பான்?
(1) தாவர, விலங்குப் பகுதிகள் (2) மணல் (3) சிறுமணல்

46. ஒரு மாணவன் நடத்திய ஒரு பரிசோதனை கீழே தரப்பட்டுள்ளது. இப்பரிசோதனை மூலம் அவன் கட்டறந்தது யாது?



- (1) சூரிய ஒளியைப் பயன்படுத்தி உப்பு உற்பத்தி செய்தல்.
(2) சூரிய ஒளி மூலம் நீரை வெப்பமேற்றல்
(3) சூரிய ஒளியின் நிறங்களை இனங்காணல்

47. கட்டில் - செவிப்புல தொடர்பாடல் ஊடகம் ஒன்று,

- (1) நாடக மேடை (2) சுவரொட்டி (3) வானொலி

48. உருவில் தரப்பட்டுள்ள சுதேச இசைக்கருவியின் பெயர்,



- (1) கைத்தாளம்
(2) உடுக்கி
(3) ரபான்

49. மூலவர்ணங்கள் மூன்றும் அடங்கியுள்ள விடையைத் தெரிவு செய்க.

- (1) மஞ்சள், சிவப்பு, கறுப்பு (2) சிவப்பு, மஞ்சள், நீலம்
(3) ஊதா, நீலம், மஞ்சள்

50. கலா வாவியைக் கட்டுவித்த மன்னன் யார்?

- (1) மகாசென் (2) தாதுசேனன் (3) தேவாநம்பியதீசன்

51. வொலிபோல் விளையாட்டில் ஓர் அணியில் இடம்பெறும் விளையாட்டு வீரர்கள் எத்தனை பேர்?

- (1) 5 (2) 6 (3) 7

52. நீரினுள் விழுந்துள்ள ஒருவரைப் பாதுகாப்பதற்காகப் பற்றிப் பிடித்துக் கெளர்ளுமாறு கூறி அவரை நோக்கி எறிவதற்குப் பொருத்தமற்ற பொருள் பின்வருவனவற்றுள் எது?

- (1) டயர் (2) நீண்ட கயிறு அல்லது சேலை (3) பலகை

53. கத்தரிக்கோல் போன்ற கூர்முனை உள்ள உபகரணம் ஒன்றினை மற்றுமொருவருக்குக் கொடுக்கும் போது பின்பற்ற வேண்டிய சரியான முறை எது?

- (1) கொடுப்பவர், கைப்பிடிப்பக்கத்தைப் பிடித்து பெறுபவரை நோக்கி கூர்முனையை நீட்டுதல்.
(2) கொடுப்பவர் கூர்முனைப் பக்கத்தைப் பிடித்து, பெறுபவரை நோக்கி கைப்பிடிப்பக்கத்தை நீட்டுதல்.
(3) பெறுபவர் உள்ளங்கை மீது வைத்தல்

54. வேட்டுவ மக்களிடையே பிரபல்யம் வாய்ந்த ஒரு நடன வகை,

- (1) கிரி கொரஹா நடனம்/வேட்டுவ நடனம் (2) வாள் நடனம் (3) காவடி நடனம்


55. உருவில் தரப்பட்டுள்ள வீதிச் சைகை மூலம் தெரிவிக்கப்படும் கருத்து யாது?



- (1) பாதசாரிகள் கடவை முன்னே உள்ளது.
(2) பிள்ளைகள் மாறும் இடம்
(3) பிள்ளைகள் கடவை முன்னே உள்ளது.

56. பொதுவாகனத்தில் பயணம் செய்யும் ஒருவரின் நற்பழக்கங்களில் அடங்காதது?
(1) தேவையற்ற பொருள்களை யன்னல்களின் வெளியே எறிதல்.
(2) மிதிபலகையில் நின்று பயணித்தல்.
(3) வரிசையில் நின்று வாகனத்தில் ஏறுதல்.
57. ஒருவரை மின்சாரம் தாக்கியுள்ள சந்தர்ப்பத்தில் முதலில் செய்ய வேண்டியது யாது?
(1) மின்தாக்குக்கு ஆளானவரைத் தூக்கி அப்புறப்படுத்தல்
(2) உதவி கோரி அழைத்தல்
(3) மின்தாக்குக்கு ஆளாகியவரை ஒரு உறுதியான மரக் கோலினால் அப்புறப்படுத்தல்
58. நுளம்பு காரணமாகப் பரவும் ஒரு நோய்,
(1) நீர்ப்பய நோய் (2) டெங்கு நோய் (3) வயிற்றோட்டம்
59. நீர் வடிகட்டியின் அடியில் இடுவதற்கு உகந்த ஒரு பொருள்,
(1) படிகக் கற்கள் (2) கரி (3) பஞ்சு
60. மரஞ்செடி கொடிகள் வளர்ந்துள்ள ஒரு இடத்தில் வாழ்வது மகிழ்ச்சி தரும். அவை சூழலுக்கு அழகு தரும். காற்றில் அசைந்தாடும், நறுமணம் பரப்பும். இவை பற்றி எண்ணிப்பார்த்து, “மரஞ்செடிகொடிகள் சூழலை அழகுபடுத்தும்” எனும் தலைப்பில் மூன்று வாக்கியங்கள் எழுதுக. (ஒவ்வொரு வாக்கியமும் ஐந்து சொற்களுக்கு மேற்பட்டதாக இருத்தல் வேண்டும். எழுவாய், பயனிலையும் எழுத்தமைப்பும் சரியாக இருக்க வேண்டும்.)

- (i)
-
- (ii)
-
- (iii)
-



පෙරහුරු ප්‍රශ්න පත්‍රය - අංක 5
11 පත්‍රය - පිළිතුරු

ප්‍රශ්න අංකය		පිළිතුරු		ප්‍රශ්න අංකය		පිළිතුරු
01. (i)		දැවින්න කළු ගලක්	1	30.		1
	(ii)	අපේ ගම දෙස බලා සිටින අදහන මිනිසකු වන්න	1	31.		2
	(iii)	මේ ගල මුදුනට	1	32.		2
	(iv)	වැඩිහිටියෝ	1	33.		2
	(v)	ඉහළ	1	34.		1
	(vi)	ගඟ / කඳු / දැවැන්ත / කළු / අදහන / ගල	1	35.		1
02. (i)	(ii)	ගලයි (ii) ගැසුවා ය. (iii) කළහ.	3	36.		2
03.		"මොනවා ද ඒවායේ නම්?"	1	37.		3
04. (i)		ඇය දැරුවන්ගේ ආරක්ෂාව වෙනුවෙන්		38.		3
		හිරිහිරියෙන් වෙනෙසුණා ය.	1	39.		1
	(ii)	සවිසට කුරුල්ලෝ තම කැඳුම් කරා ආවෝ ය.	1	40.		3
05. (i)		ගොවියෝ කුඹුරු කොටති.	1	41.		2
	(ii)	නංගී පාසල් ගියා ය.	1	42.		2
06.		මිරිස්	1	43.		3
07. (i)	(ii)	ප්‍රශ්න (ii) පළල	2	44.		2
08.		පැසී ගොයම් කෙත සුරපුර ලීලා	1	45.		1
09. (i)	(ii)	බෝග (ii) නිරිත	2	46.		3
10.		බිම්මල	1	47.		1
11. (i)	(ii)	Bicycle (ii) Frock	2	48.		1
12. (i)	(ii)	කහ (ii) ගිරවා	2	49.		2
13.		Please excuse me.	1	50.		2
14.		නංගී	1	51.		2
15.		සන්දෙද එංගේ	1	52.		1
16.		46099	2	53.		2
17. (i)		7210	2	54.		1
	(ii)	1010	1	55.		3
18.		viii	2	56.		1
19.		12 cm	2	57.		3
20. (i)	(ii)	0.3 (ii) 7/10	2	58.		2
21.		4	2	59.		3
22. (i)		පැය 7 යි මිනිත්තු 15	2			(ලකුණු 1 x 30)
	(ii)	පැය 14 : 45	2			60) දෙන ලද උපදෙස්
23.		9	2			අනුව නිවැරදි වාක්‍ය
24. (i)	(ii)	2 (ii) 2	2			තුනක් ලියා තිබිය යුතුයි.
25. (i)	(ii)	36 (ii) 26	2			(ලකුණු 6 යි)
26. (i)		43	2			සමස්ත පිළිතුරු පත්‍රයේම අත්
	(ii)	5	1			අකුරු සහ ඉලක්කම් සලකා
27. (i)		රුපියල් 270.00	2			බලා අතිරේක ලකුණු 02 ක්
	(ii)	රුපියල් 230.00	1			ප්‍රදානය කරන්න.
28.		ලීටර 17 මිලිලීටර 750	2			
29. (i)	(ii)	අඟහරුවාදා සහ සිකුරාදා (ii) 20	2			
	(iii)	නිවැරදි ප්‍රමාණයට ඇද ලකුණ කර තිබිය යුතුය.	1			
				මුළු ලකුණු 100		