

தேசிய சேமிப்பு வங்கியின் அன்பளிப்பாகும்.



## முற்பயிற்சி வினாத்தாள் - 04

பாடசாலைக்கு மாணவர்களைத் தெரிவு செய்வதற்கும் மாணவர் உதவி வழங்குவதற்குமாக ஐந்தாந் தர மாணவர்களுக்காக நடாத்தப்படும் பரீட்சை - 2022

EXAMINATION GRADE FIVE STUDENTS FOR SELECTION TO SCHOOL AND FOR THE AWARD OF BURSARIES - 2022

பத்திரம் II

01 மணி 15 நிமிடம்

சுட்டிலக்கம்: .....

பரீட்சைக்குத் தோற்றும் உங்களுக்குரிய அறிவுறுத்தல்கள்:

- உங்களது சுட்டிலக்கத்தை மேலே தரப்பட்டுள்ள கட்டத்தினுள் புள்ளிக்கோட்டின்மீது எழுதுக.
- மூன்றாம் பக்கத்தில் தரப்பட்டுள்ள குறித்த இடத்திலும் உங்கள் சுட்டிலக்கத்தை எழுதுக.
- இவ்வினாப்பத்திரத்தில் 40 வினாக்கள் உள்ளன. எல்லா வினாக்களுக்கும் இவ்வினாத்தாளிலேயே விடையளிக்குக. (சில வினாக்களில் உப பகுதிகளும் உள்ளன.)
- நான்கு விடைகள் தரப்பட்டுள்ள வினாக்களில் சரியான விடையைத் தெரிவுசெய்து கீழ்க் கோடிடு
- விடை எழுதுவதற்குரிய வினாக்களின் விடைகளைப் புள்ளிக்கோட்டின் மீது எழுதுக.
- விடையின் கீழ்க் கோடிடுக எனக் கூறப்பட்டுள்ளதாயின், கோடு மாத்திரம் வரைக.
- செய்து பார்த்தலுக்காக ஒரு கடதாசித்தாள் தரப்படும்.

விடைத்தாள் பரீட்சகர்களுக்கு மாத்திரம்.

பக்க எண்	பெற்ற புள்ளி
02	
03	
04	
05	
06	
07	
08	
மொத்தம்	
இறுதிப்புள்ளி	
இலக்கத்தில்	
எழுத்தில்	

	சுருக்க ஒப்பமும் குறியீட்டிலக்கமும்
முதலாம் பரீட்சகர் புள்ளிவழங்கும் திட்டத்தின் படி விடைத்தாள் மதிப்பீடு செய்தமையை உறுதிப்படுத்துகிறேன்.	V/II/S
இரண்டாம் பரீட்சகர் முதலாம் பரீட்சகர் செய்துள்ள மதிப்பீடு சரியானது என உறுதிப்படுத்துகிறேன்.	V/II/S
மதிப்பீட்டுப் புள்ளிகளை உறுதிப்படுத்தும் பரீட்சகர் மதிப்பீடு செய்து, வழங்கியுள்ள புள்ளிகளும் இறுதிப்புள்ளியும் சரியானவை என உறுதிப்படுத்துகிறேன்.	V/II/S/EMF
பிரதம பரீட்சகர் மேற்பார்வை செய்தேன். இறுதிப்புள்ளி சரியானது.	
	V/II/S/CH

தயாரிப்பு: சட்டத்தரணி கிரேசன் குலரத்ன - ஓய்வுபெற்ற பணிப்பாளர், முன்பிள்ளைப்பருவ விருத்தி மற்றும் ஆரம்பக்கல்வித் திணைக்களம், தேசிய கல்வி நிறுவகம் - தொ.இல: 071-4500044

**01. பின்வரும் பாடலை வாசியுங்கள்.**

மலையில் வந்து முகில்கள் கூட  
வண்ண மயிலும் ஆகுது  
அழகு தோகை விரித்து நின்றே  
ஆனந்தமாய் ஆடுது

கோலமயிலின் கூத்தைக் கண்டு  
குரங்கு தாளம் போடுது  
கொப்புக் கொப்பாய்த் தாவிப் பாய்ந்து  
குரங்கு தாளம் போடுது

■ **பாடலைத் துணையாகக் கொண்டு விடை எழுதுக.**

(i). மலையில் வந்து கூடுபவை எவை?

.....

(ii) கோல மயிலின் கூத்தைக் கண்டு தாளம் போடுவது எது?

.....

(iii) இங்கு பந்துள்ள அடுக்கு மொழிச் சொல்லை எழுதுக. ....

(iv) சந்தோசமாய் என்பதன் ஒத்த கருத்துச் சொல் யாது? .....

(v) பாடலில் வந்துள்ள பெயரடைமொழியில் சொல் ஒன்று தருக.

.....

(vi) "மயில் தோகை விரிந்து ஓடியது." என்பதை எதிர்கால வாக்கியமாக  
எழுதுக. ....

**02. பின்வரும் தொடர்புகளுக்குரிய தனிச் சொல்லை எழுதுக.**

(i) குழந்தைகளை உறங்க வைக்கப் பாடும் பாட்டு.....

(ii) சித்திரங்கள் வரைபவன்.....

(iii) நாற்புறமும் கடலாற் சூழப்பட்ட நிலம்.....

**03. அடைப்புக்குள் இருக்கும் சொற்களில் இருந்து பொருத்தமான சொல்லைத் தெரிவு செய்து அதன் கீழ்க் கோடிடுக.**


(i) குமார் கடிதத்தை ..... (உறையில்/உரையில்) இட்டார்.


(ii) நாம் சுவாசிப்பதற்கு..... (வழி/வளி) அவசியமாகும்.

**04. கீழே தரப்பட்டுள்ள சொற்களை ஒழுங்குபடுத்திக் கருத்துள்ள வாக்கியங்கள் எழுதுக.**

(i) கடற்கரையில் / வீடு / சிறுவர்கள் / மணல் / விளையாடினார்கள் / கட்டி  
.....

(ii) குஞ்சுகளும் / சென்றன / கோழியும் / இரை / வெளியே / தேடிச்  
.....



05. கீழே தரப்பட்டுள்ளவற்றிற்கு அடைப்புக்கள் இருந்து பொருத்தமான சொல்லைத் தெரிவு செய்து புள்ளிக் கோட்டில் எழுதுக.  
(பசு, சென்றோம், நீங்கள், அம்மா, நீ)
- (i) உயர்திணை பன்மை முன்னிலைப் பெயர் சொல் .....
- (ii) அஃறிணை ஒருமை படர்க்கைப் பெயர்ச் சொல் .....
- (iii) தன்மைப் பன்மை வினைச் சொல் .....
06. பொருத்தமான இடங்களில் நிறுத்தக் குறிகளை இடுக.  
அசிரியர் எங்கள் இலங்கை என்ற பாடலைப் பாடினார்  
.....
07. பின்வரும் வாக்கியங்களை எழுத்து மொழியாக்கி மீண்டும் எழுதுக.  
(i) நாங்க வீட்டை போட்டு வாறம்  
.....  
(ii) பாட்டி சந்தையில் வெத்திலை வேண்டினார்.  
.....
08. பின்வரும் பழமொழிகளைப் பூரணப்படுத்துக.  
(i) இக்கரை மாட்டிற்கு .....
- (ii) இளங்கன்று .....
09. பின்வரும் வாக்கியத்தைப் பன்மை வாக்கியமாக மாற்றி எழுதுக.  
பெரிய மரம் காற்றில் ஆடி அசைந்தது.  
.....
10. பின்வரும் மரபுத் தொடர் வெளிப்படுத்தும் கருத்தை எழுதுக.  
தட்டிக் கழித்தல் .....
11. ஆங்கிலச் சொல்லுக்குரிய தமிழ்ச் சொல்லை எழுதுக.  
(i) **Library** ..... (ii) **Hand** .....
12. உருவத்துக்குப் பொருத்தமான ஆங்கிலச் சொல்லை ஆங்கில எழுத்துக்களில் எழுதுக.  
  
.....
13. பின்வரும் சொற்களைச் சரியாக ஒழுங்குபடுத்தி வாக்கியமாக எழுதுக.  
(i) **my / This / brother / is** .....
- (ii) **are / playing / cricket / They** .....

14. ஞாபகம் எனும் சிங்களச் சொல்லுக்குரிய தமிழ் சொல்லை எழுதுக. ....


15. பின்வரும் வாக்கியத்தை சிங்களத்தில் கூறும் விதத்தை சிங்களத்தில் எழுதுக.  
இது எனது கதிரை .....

16. 47507 எனும் எண்ணின் எண் பெயரை எழுதுக.....

17. தரப்பட்டுள்ள எண்களை இறங்கு வரிசைப்பு எழுதுக.  
947, 1047, 5200, 7425 .....

18. தரப்பட்டுள்ள எண் கோலங்களில் இடைவெளிக்குப் பொருத்தமான எண்ணை  
எழுதுக.

(i) 6, 15, 24, ....., 42 (ii) 4, 11, 18, 25, .....

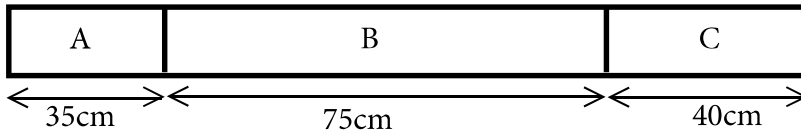
19.  மலர்ச் செடிகளில் உள்ள மலர்கள் எத்தனை என  
உரோம இலக்கத்தில் எழுதுக.  
.....

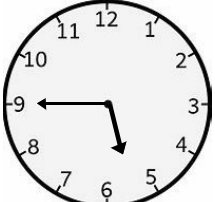
20. (i) உருவில் நிழற்றியுள்ள பகுதியை பின்னமாக  
எழுதுக. ....

(ii) நிழற்றாத பகுதியை தசம எண்ணாக  
எழுதுக. ....




21. காகிதக் கீலமொன்று கீழே தரப்பட்டுள்ளது. அது A, B, C என மூன்று பகுதியாகப்  
பிரிக்கப்பட்டுள்ளது. அந்த மூன்று பகுதிகளின் மொத்த நீளத்தை மீற்றர், சென்றி  
மீற்றரில் எழுதுக.  
.....

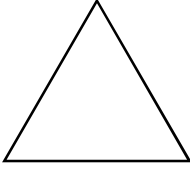


22.  ஒரு மாலை வேளை நேரம் கடிகார முகப்பில் காட்டப்பட்டு  
ள்ளது. அதனை 24 மணிக் கடிகார நேரமாக எழுதுக.  
.....

23. ஒரு பெட்டியில் 250 மாம்பழங்கள் உள்ளன. மற்றுமொரு பெட்டியில் 150 மாம்பழங்கள்  
உள்ளன. இந்த எல்லா மாம்பழங்களையும் ஐந்தைந்தாக உறைகளில் இடுவதற்கு  
மொத்தம் எத்தனை உறைகள் தேவை? .....



24.



இந்த முக்கோணியில் எத்தனை சமச்சீர்க் கோடுகள் வரையலாம்? .....

25.

(i) 5l 500 ml தெங்காய் எண்ணெய் ஊற்றி வைக்கக்கூடிய ஒரு போத்தல் உள்ளது. அதில் இப்போது 2l 750 ml தேங்காய் எண்ணெய் உள்ளது. போத்தலை நிரப்புவதற்கு மேலும் எவ்வளவு தேய்காயெண்ணெய் தேவை?

.....

(ii) போத்தலில் உள்ள தேங்காய் எண்ணெய்யை 250 ml போத்தல்களில் ஊற்று வதற்காகத் தேவையான சிறிய போத்தல்கள் எத்தனை? .....

26.

விலைப்பட்டியல் ஒன்று கீழே தரப்பட்டுள்ளது. அதனை விளங்கி வினாக்களுக்கு விடை தருக.

பொருட்கள்	அளவு	விலை	
		ரூ.	சதம்
தேயிலை	100	80	00
சீனி	1 kg	120	00
தேங்காய் எண்ணெய்	1 l	250	00
அரிசி	1 kg	110	00

(i) ஒரு மாணவன் 250g தேயிலையும் 3 kg அரிசியும் வாங்கினான். அவன் செலுத்த வேண்டிய பணத்தொகை எவ்வளவு?

.....

(ii) அம்மாணவன் அதற்காக 1000 ரூபாய் நாணத்தில் ஒன்றை வியாபாரியிடம் கொடுத்தான். அவனுக்கு மீதியாகக் கிடைக்கப் பணத்தொகை எவ்வளவு?

.....

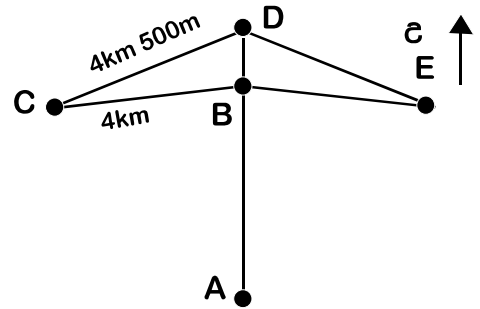
27.

A, B, C, D E ஆகிய ஐந்து நகரங்கள் பாதைகளால் இணைக்கப்பட்டுள்ள விதம் உருவில் காட்டப்பட்டுள்ளது. அதனை விளங்கி பின்வரும் வினாக்களுக்கு விடை தருக.

(i) ஒரு மாணவன் A எனும் நகரத்திலிருந்து ஆரம்பித்து, B, C, D, E நகரங்களை கடந்து சென்று B நகரத்தை அடைந்தான். அவன் சென்ற மொத்தத் தூரம் எவ்வளவு?

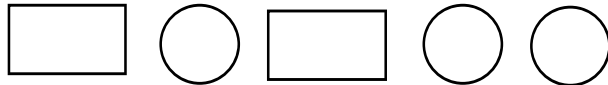
.....

(ii) E எனும் நகரம், C எனும் நகரத்திற்கு எந்தத் திசையில் அதைமந்துள்ளது? .....




28.

பின்வரும் தள வடிவங்களுள் மூன்றை மாத்திரம் பயன்படுத்தி ஆக்கத்தக்க திண்ணவுரு யாது?



.....

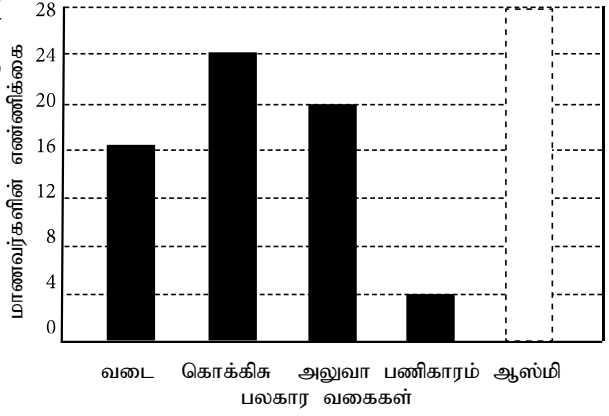


29. சில மாணவர்கள் உண்ண விரும்பும் பலகாரங்கள் பற்றிய ஒரு வரைபு இங்கு தரப்பட்டுள்ளது. அதனை விளங்கி பின்வரும் வினாக்களுக்கு விடை தருக.

(i) ஆஸ்மி உண்ண விரும்பும் மாணவர் தொகை 18 ஆகும். அதனை வரைபில் வரைந்து காட்டுக.

(ii) பலகாரம் உண்ண விரும்பும் மொத்த மாணவர் தொகை எவ்வளவு? .....

(iii) பணிகாம் உண்ண விரும்பும் மாணவர் தொகையை விட எத்தனை மடங்கு மாணவர்கள் வடை உண்ண விரும்புகின்றனர்? .....



□ இல. 30 தொடக்கம் 59 வரையிலான ஒவ்வொரு வினாவிலும் சரியான விடையைத் தெரிவு செய்து அதன் கீழ்க் கோடிடுக.

30. சூரிய நமஸ்காரத்தின் எத்தனையாவது படிமுறை உருவில் காட்டப்பட்டுள்ளது?  
(1) 1 ஆம் படிமுறை (2) 2 ஆம் படிமுறை (3) 3 ஆம் படிமுறை

31. கழிவுப் பொருள்களை வகைப்படுத்தி வெளியேற்றுவதால் கிடைக்கும் நன்மை அல்லாதது எது?  
(1) மீள்சூழற்சி செய்வது இலகுவாதல்.  
(2) தாவரங்களின் வளர்ச்சி பாதிக்கப்படுவதில்லை.  
(3) உணவு உட்கொண்ட பின்னர், கழிவுப் பொருள்களை வகைப்படுத்துவதால் உள அசௌகரியங்கள் ஏற்படலாம்.

32. இலங்கைக்கு முதலாவது ஒலிம்பிக் பதக்கத்தை வென்றவர் யார்?  
(1) டன்சன் வைற் (2) சுசந்திக்கா ஜயசிங்ஹ (3) தமயந்தி தர்சா

33. அரச இலச்சினையில் உள்ள சந்திரன், சூரியன் ஆகியவற்றால் குறிக்கப்படுவது,  
(1) நிலையான இருப்பு (2) தன்னிறைவும் செழிப்பும் (3) சௌபாக்கியம்

34. மஞ்சள் நிற பெரிய மலர்கள் பூக்கும் செடி,  
(1) கெக்கிரி (2) பயற்றை (3) பூசணி

35. பயிர்ச் செய்கையில் பூச்சிகளைத் துரத்துவதற்காகப் பயன்படும் ஒரு பூக்கள் உள்ள ஒரு தாவரம்,  
(1) மல்லிகை (2) செவ்வந்தி (3) சேபாலிகா

36. பிரதான தண்டில் பூக்கள் தோன்றும் ஓர தாவரம்,  
(1) நாகலிங்க மரம் (2) ஈரப்பலா (3) நாகமரம்

37. மரப்பொந்துகளில் தமது கூட்டை அமைத்துக்கொள்ளும் பிராணி,  
(1) அணில் (2) மைனா (3) புற

38. கூட்டம் கூட்டமாகக் காணப்படும் பிராணி,  
(1) ஓணான் (2) செண்பகம் (3) புறா

39. சூழலுக்குப் பொருத்தமானவாறு தனது உடலின் நிறத்தை மாற்றிக் கொள்ளும் தன்மையுள்ள ஒரு பிராணி,  
(1) கிளி (2) ஓணான் (3) வண்ணத்திப்பூச்சி



40. இந்த உருவில் உள்ள வீதிச் சைகையில் காட்டப்படுவது,  
(1) பாதுகாப்பு இல்லாத புகையிரதக் கடவை முன்னே உள்ளது.  
(2) புகையிரத நிலையம் முன்னே உள்ளது.  
(3) பாதுகாப்பான புகையிரதக் கடவை முன்னே உள்ளது.
41. மின்னலின்போது பாதுகாப்புப் பெறுவதற்காக எவ்வாறு செயற்பட வேண்டும் எனச் சரியாகக் காட்டும் விடை எது?  
(1) ஒரு பெரிய மரத்தின் கீழ் நிற்கல்  
(2) வீட்டில் ஒரு கட்டிலின் மீது இருத்தல்.  
(3) ஒரு சைக்கிளின் மீது இருத்தல்.
42. வாகன ஒதுக்கீட்டுக்காக பொது வாகனங்களில் காணப்படும் ஓர் அறிவித்தல் அல்லாதது எது?  
(1) மதகுருமாருக்கு ஒதுக்கப்பட்டுள்ளது.  
(2) ஊனமுற்றோருக்கு ஒதுக்கப்பட்டுள்ளது.  
(3) சிரேட்ட பிரசைகளுக்கு ஒதுக்கப்பட்டுள்ளது.

43. தடிமன் நோயாளிகள் பருகும் சுவையான ஓர் ஓசைத பானம்,  
(1) கொத்தமல்லிப் பானம் (2) வில்வம்பூப் பானம் (3) சீந்திக்கொடிப் பானம்

44. உடல் வளர்ச்சிக்குத் துணையாகும் ஓர் உணவு வகை,  
(1) மாம்பழம் (2) அப்பம் (3) மீன்

45. இரவில் காணப்படும் ஒரு பிராணி,  
(1) கரப்பான் பூச்சி (2) அணில் (3) குரங்கு

46. தரப்பட்டுள்ள பொருள்களைப் பயன்படுத்திப் பின்வரும் எதனைச் செய்யலாம்?

- வெவ்வேறு அளவான பற்பசைப் பெட்டிகள்  
இரண்டு  
 திசுத்தாள்  
 கறுப்பு நிறக் காகிதம்  
 குண்டுசி, பசை, கத்தரிக்கோல்

- (1) ஊசித்துளைக் கமரா  
(2) காற்றுத்திசைகாட்டி  
(3) விளையாட்டு விசிறி

47. இருபலகையில் துளையிடுவதற்குப் பொருத்தமான உபகரணம்,


- (1)  (2)  (3) 

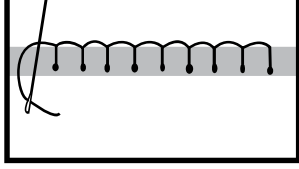
48. ஒரு பொருளின் தரம் தொடர்பான சருவதேச ரீதியில் ஏற்றுக்கொள்ளப்பட்ட தரக் குறியீடு எது?

- (1) ISO (2) SLS (3) LSS

49. தற்காலத்தில் அதிகமானோருக்கு இருக்கும் இரைப்பை அழற்சி (கஸ்டைட்டிஸ்) நோய்க்குக் காரணம் யாது?

- (1) இனிப்பான உணவுகள் பானங்களை அதிகமாக உட்கொள்ளல்.  
(2) அசுத்த நீரைப் பருகுதல்.  
(3) எண்ணெய்யும் மிளகாயும் அதிகளவில் அடங்கிய உணவுகளை உட்கொள்ளல்.



50. தமது பாதுகாப்புக்காக பாதுகாப்பு உபகரணங்களை அணிந்து தொழிலில் ஈடுபடுபவர்,  
(1) வியாபாரி (2) மரவேலையாளர் (3) கட்டடம் நிர்மாணிப்பவர்
51. பின்வரும் எந்தத் தாவரத்தின் தண்டுத்துண்டுகளை நாட்டி, புதிய தாவரங்கள் பெறலாம்?  
(1) பசளி (2) மிளகாய் (3) பாகல்
52. உருவில் காட்டப்பட்டுள்ள தையல் முறை பின்வருவனவற்றுள் எதனைத் தைப்பதற்கு மிகப் பொருத்தமானது?  
(1) உரையில் மலர் தைப்பதற்கு  
(2) பொத்தான் கண் தைப்பதற்கு  
(3) கவுண் கரை தைப்பதற்கு
- 
53. கம்பி பயன்படும் ஒரு சந்தர்ப்பம்,  
(1) அலுமாரி ஒன்றைத் தள்ளுதல். (2) கிணற்றிலிருந்து நீர் இறைத்தல்  
(3) சில்லு வண்டியில் பொருள்களைக் கொண்டு செல்லல்
54. புத்தாண்டுக் காலத்தில் பெண்கள் கூடியிருந்து கொட்டும் ஒரு இசைக்கருவி,  
(1) கைத்தாளம் (2) உடுக்கி (3) ரபான்
55. நுரைச்சோலை நிலக்கரி மின் உற்பத்தி நிலையத்தின் படம் பொறிக்கப்பட்டுள்ள நாணயத்தாள்,  
(1) ரூபாய். 20.00 (2) ரூபாய். 50.00 (3) ரூபாய். 100.00
56. கட்புல - செவிப்புல தொடர்பாடல் உபகரணம்,  
(1) செய்தித்தாள் (2) தொலைக்காட்சிக்கருவி (3) வானொலிக்கருவி
57. சிவப்பு, நீலம் ஆகிய நிறங்களைக் கலந்து தயாரிக்கப்படும் நிறம்,  
(1) ஊதா (2) பச்சை (3) செம்மஞ்சள்
58. சொரபொற வாவி அமைந்துள்ள நகரம் எது?  
(1) பொலனறுவை (2) மகியங்களை (3) அனூராதபுரம்
59. வரலாற்று முக்கியத்துவமுள்ள மடு தேவாலயம் அமைந்துள்ள மாவட்டம் எது?  
(1) மன்னார் (2) அனூராதபுரம் (3) புத்தளம்
60. பாடசாலை இல்ல விளையாட்டுப் போட்டி என்பது பாடசாலை மாணவ, மாணவிகள் மகிழ்ச்சியுடனும் ஆர்வத்துடனும் பங்குபற்றும் ஒரு நிகழ்ச்சியாகும். உங்கள் பாடசாலை இல்ல விளையாட்டுப் போட்டிகளில் இவ்வருடம் உங்களது இல்லம் வெற்றி பெற்றதாக அதிபர் விழாமேடையில் அறிவித்த சந்தர்ப்பத்தை எண்ணிப் பாருங்கள். அந்தச் சந்தர்ப்பம் பற்றிச் சிந்தித்து, “இவ்வருடம் இல்ல விளையாட்டுப் போட்டிகளில் எனது இல்லம் வெற்றி பெற்ற வேளையில் எனக்கு ஏற்பட்ட எண்ணங்கள்” எனும் தலைப்பில் மூன்று வாக்கியங்கள் எழுதுங்கள். (ஒவ்வொரு வாக்கியத்திலும் 5 சொற்களுக்கு மேல் அடங்கியிருத்தல் வேண்டும். எழுவாய், பயனிலை தொடர்பும் எழுத்தமைப்பும் சரியாக இருத்தல் வேண்டும்.

- (i) .....
- (ii) .....
- (iii) .....





**පෙරහුරු ප්‍රශ්න පත්‍රය - අංක 04**  
**11 පත්‍රය - පිළිතුරු**

ප්‍රශ්න අංකය		විච්ඡින්න			ප්‍රශ්න අංකය		විච්ඡින්න
01.	(i)	මහා සාගරයේ / මහා සාගරය මධ්‍යයේ	1		30.		2
	(ii)	තාරකා එළියෙන්	1		31.		3
	(iii)	දිවයින	1		32.		1
	(iv)	අපි	1		33.		1
	(v)	මුහුදු ගමනක්	1		34.		3
	(vi)	වත්දයා / යාත්‍රා / රාත්‍රියක්	1		35.		2
02.	(i)	මිනිසාගේ පරම යුතුකම මිනිසාට සේවය කිරීම ය.	1		36.		1
03.	(i)	"මගේ පුතාගේ අතේ ඇඟිලි කීය ද?"	1		37.		2
	(ii)	"අර, තනි කකුලේ මේසයක්!"	1		38.		3
04.	(i)	වංගෙඩිය	2	(ii)	ඉනි		2
05.	(i)	ආවේ ය	3	(ii)	කෘවා ය		2
				(iii)	වැටුණේ ය.		1
06.	(i)	කුඹුරක වැඩි ජලය බැස යාමට නියරෙහි කපන කපොල්ල	1		40.		1
	(ii)	පැළ ගොයම	1		41.		2
07.		මිදුලට අතු හැමෙන්නේ	1		42.		3
08.	(i)	තාත්තා උදේම පොළට ගියේ ය.	1		43.		1
	(ii)	සහන් පාසල් ගොස් හොඳින් ඉගෙන ගනියි.	1		44.		3
09.		වලාකුළක	1		45.		1
10.		වගකීමෙන් බේරීම	1		46.		1
11.	(i)	පුස්තකාලය	2	(ii)	අත		3
12.		chair	1		48.		1
13.	(i)	This is my brother	1		49.		3
	(ii)	They are playing cricket	1		50.		3
14.		ආපස	1		51.		1
15.		ඉදු එතදු කදිවෙරේ	1		52.		2
16.		හතලිස් හත් දහස් පන්සිය හත	2		53.		2
17.		7425, 5200, 1047, 947	2		54.		3
18.	(i)	33	2	(ii)	32		2
19.		ix	2		55.		2
20.	(i)	6/10 හෝ 3/5	2	(ii)	0.4		3
21.		1 m 50cm	2		57.		1
22.		පැය 17:45	2		58.		2
23.		80	2		59.		1
24.		3	2		(ලකුණු 1 x 30)		
25.	(i)	2l 750ml	2		60) දෙන ලද උපදෙස් අනුව නිවැරදි වාක්‍ය තුනක් ලියා තිබිය යුතුයි. (ලකුණු 6 යි)		
	(ii)	11	2				
26.	(i)	රුපියල් 530.00	2		සමස්ත පිළිතුරු පත්‍රයේම අත් අකුරු සහ ඉලක්කම් සලකා බලා අතිරේක ලකුණු 02 ක් ප්‍රදානය කරන්න.		
	(ii)	රුපියල් 470.00	2				
27.	(i)	22km	2				
	(ii)	හැගෙනහිර දිශාව	1				
28.		සිලිහඹරය	2				
29.	(i)	අදාළ සංඛ්‍යාව නිවැරදිව ඇඳ ලකුණු කර තිබිය යුතුයි.	1				
	(ii)	82	2	(iii)	හතර ගුණයකි		2
					<b>මුළු ලකුණු 100</b>		